

中学

# WinPass

社会

歴3・公民

市場経済と価格，金融や市場経済と価格の決めり方  
経済と価格の決めり方等の問題集

中学社会 | 中学WinPass

# 7

## 市場経済と価格，金融

### 1 市場経済と価格の決まり方

- (1) 市場経済…商品が売り買いされる場を市場といい，さまざまな市場で自由競争による売買が行われる経済を市場経済という。ほとんどの国で市場経済のしくみが入り入れられている。
- (2) 価格…商品の価格には，原材料費や流通経費などのさまざまな費用のほか，利潤（利益）がふくまれている。
- (3) 価格の種類と決まり方

① 市場価格…市場で実際に売買されているときの商品の価格は，需要量（消費者が買おうとする量）と供給量（生産者が売ろうとする量）の関係で変化する。需要量が供給量を上回ると価格が上がり，供給量が需要量を上回ると価格が下がる。需要量と供給量が一致すると，価格は変化しなくなる。需要量と供給量が一致するところで決まる価格を均衡価格という。→1, 2

② 独占価格…生産や販売を少数の企業が支配している状態を寡占，ただ一つの企業が支配している状態を独占という。このような状態になると価格競争が弱まり，一つまたは少数の企業が一方的に価格を決めることになりやすい。このような価格を独占（寡占）価格といい，消費者は不当に高い価格の商品を買わされる可能性がある。

● 独占禁止法…消費者が不当に高い価格の商品を買わされることのないように，独占を防ぎ，企業の競争をうながすための法律。公正取引委員会がその運用にあたり，企業同士が結ぶ，価格や生産量についての協定などを取りしめる。

③ 公共料金…変動が大きいと，国民生活にあたる影響が大きくなるため，国や地方公共団体が決定したり，認可したりする価格。→3

### 2 金融のはたらきと日本銀行

(1) 金融のはたらき

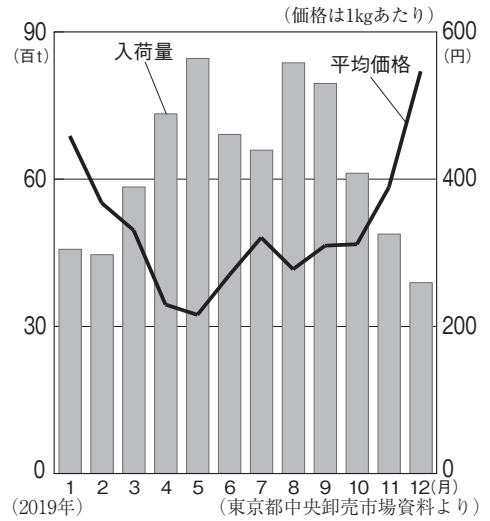
① 金融…資金が必要な人と，資金に余裕のある人との間で行われる資金の貸し借り。

● 直接金融…企業が株式や債券を発行し，出資者から直接に資金を借りること。

● 間接金融…銀行から資金を借りること。家計や企業の預金，銀行を仲立ちに間接的に貸し出される。

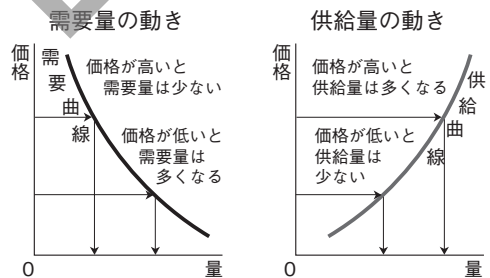
② 金融機関…金融を仲立ちする銀行，信用金庫，証券会社，保険会社などの企業。

### 1 東京のきゅうりの入荷量と平均価格

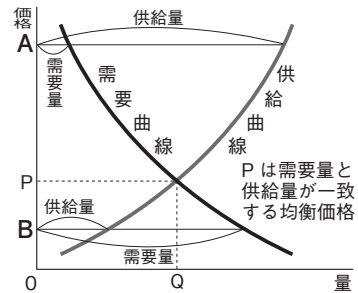


入荷量が増えると平均価格は下がる傾向が多い。

### 2 需要・供給と価格の関係



### 価格の決まり方



Aでは供給量が需要量を上回っているため，価格は下がる。Bでは需要量が供給量を上回っているため，価格は上がる。

### 3 公共料金

国が決定	社会保険診療報酬 介護報酬など
国が認可	鉄道運賃，バス運賃など
国に届け出	郵便料金など
地方公共団体が決定	公営水道料金 公立学校授業料など

③ 銀行のしくみ…貯蓄を預金として集め、家計や企業に貸し出す。資金を借りた家計や企業は、元金に**利子（利息）**をつくり返す。銀行は、資金を貸し出した企業や家計から受け取る利子（貸し出し金利）と、預金者に支払う利子（預金金利）の差額を収入とする。貸し出し金利のほうが大きい。→4

④ 貨幣（通貨）と金融…紙幣や硬貨を現金通貨、銀行に預けられた預金などを**預金通貨**という。今日の日本では、預金通貨の割合が約9割をしめている。→5

(2) 日本銀行の役割…各国にある、金融制度の中心となる銀行を**中央銀行**といい、経済や自国の貨幣価値を安定させる役割をになう。日本の中央銀行は、**日本銀行**である。→4

① 発券銀行…日本銀行券（千円札、二千円札、五千円札、一万円札の紙幣）を発行する**唯一の銀行**である。

② 政府の銀行…政府資金を取り扱ったり、政府からの預金を受け入れたりする。

③ 銀行の銀行…一般の銀行に対して、資金の貸し出しと預金の受け入れを行う。

### 3 景気の変動

(1) 景気変動…経済において、**好景気（好況）**と**不景気（不況）**がくり返されること。→6

① **好景気**…商品がよく売れ、それにより生産の拡大、賃金の上昇、失業者の減少などがおこる状態。好景気ときには、需要量が供給量を上回り、物価が上がり続ける**インフレーション（インフレ）**が**おこりやすい**。

② **不景気**…商品が売れず、それにより生産の縮小、賃金の下落、失業者の増加、企業の倒産などがおこる状態。不景気ときには、需要量が供給量を下回り、物価が下がり続ける**デフレーション（デフレ）**が**おこりやすい**。

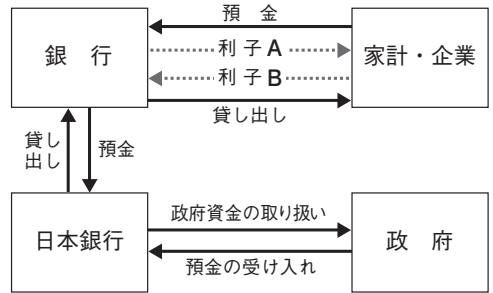
●**デフレスパイラル**…デフレーションの結果、企業の収益が悪化し、賃金が下がり、物が売れず、物価が下がるという悪循環がくり返される状態。

(2) 景気の調整…国民生活は、インフレーションとなっても、デフレーションとなっても混乱する。そのため、不景気ときはもちろん、好景気であっても景気の調整が必要となる。

●**金融政策**…日本銀行は、景気や物価の動きを安定させるため、世の中に出回る資金量（通貨量）を調整する。好景気であれば、世の中に出回る資金量が少なくなるように、不景気であれば、世の中に出回る資金量が多くなるように調整する。金融政策の中心となるのが、日本銀行が一般の銀行との間で、**国債などの売買**を行う**公開市場操作**である。→7

国が借金のために発行した証券 オペレーション

### 4 国民経済と銀行のはたらき

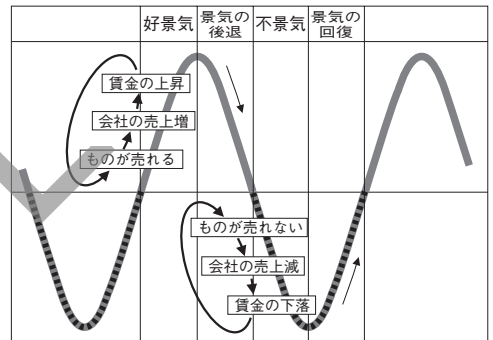


日本銀行は、家計や一般の企業とは取り引きしない。

### 5 日本の通貨量の内わけ

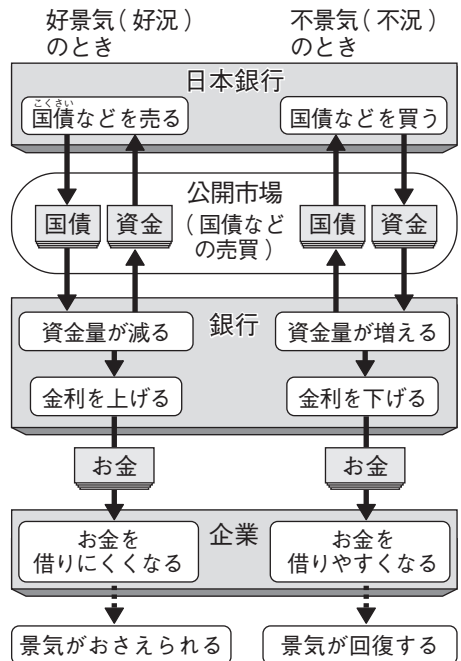


### 6 景気変動



好景気→景気の後退→不景気→景気の回復→好景気……をくり返す。

### 7 金融政策（公開市場操作）



日本銀行（日銀）は、好景気ときには、国債などを売り、不景気ときには、国債などを買って、世の中に出回る資金量（通貨量）を調整する。

## 確認問題

### 1 市場経済と価格の決まり方

- (1) 商品が売り買いされる場を何というか。 \_\_\_\_\_
- (2) 消費者が買おうとする量のことを何というか。 \_\_\_\_\_
- (3) 生産者が売ろうとする量のことを何というか。 \_\_\_\_\_
- (4) 市場では、供給量が需要量を上回ると、価格はどのように変化するか。 \_\_\_\_\_
- (5) 需要量と供給量が一致したところで決まる価格を何というか。 \_\_\_\_\_
- (6) 市場を、一つの企業が支配している状態を何というか。 \_\_\_\_\_
- (7) (6)を防ぎ、企業の自由競争をうながすために制定された法律を何というか。 \_\_\_\_\_
- (8) (7)の運用にあたっている機関を何というか。 \_\_\_\_\_
- (9) 国や地方公共団体が決定・認可する価格（料金）を何というか。 \_\_\_\_\_

### 2 金融のはたらきと日本銀行

- (1) 資金が必要な人と、資金に余裕のある人との間で、資金の貸し借りをを行うことを何というか。 \_\_\_\_\_
- (2) (1)のうち、企業が株式などを発行し、出資者から直接に資金を借りることを何というか。 \_\_\_\_\_
- (3) 銀行から借りた元金に対してつける、元金の一定割合のお金を何というか。 \_\_\_\_\_
- (4) 紙幣や硬貨をまとめて何というか。 \_\_\_\_\_
- (5) 貨幣（通貨）の多くをしめる、銀行などに預けられた通貨を何というか。 \_\_\_\_\_
- (6) 各国にある、金融制度の中心となる銀行を何というか。 \_\_\_\_\_
- (7) 日本銀行が発行する紙幣を、正式名称で何というか。 \_\_\_\_\_
- (8) 日本銀行は、紙幣を発行することから何とよばれるか。 \_\_\_\_\_
- (9) 日本銀行は、政府資金を取り扱ったり、政府からの預金を受け入れたりすることから何とよばれるか。 \_\_\_\_\_
- (10) 日本銀行は、一般の銀行に対して、資金の貸し出しや預金の受け入れを行うことから何とよばれるか。 \_\_\_\_\_

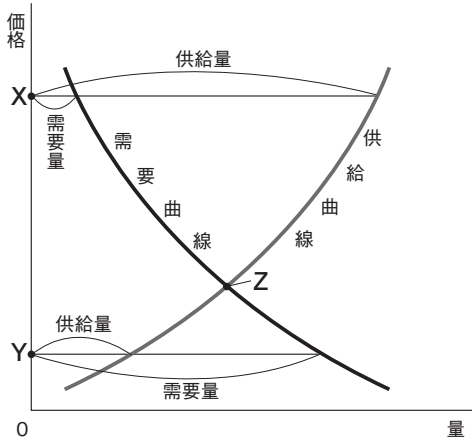
### 3 景気の変動

- (1) 好景気（好況）と不景気（不況）がくり返されることを何というか。 \_\_\_\_\_
- (2) 商品の需要が増え、生産が拡大し、賃金の上昇が見られる状態は、好景気か不景気か。 \_\_\_\_\_
- (3) 好景気のときにおこりやすい、需要量が供給量を上回って物価が上がり続けることを何というか。 \_\_\_\_\_
- (4) 不景気のときにおこりやすい、需要量が供給量を下回って物価が下がり続けることを何というか。 \_\_\_\_\_
- (5) 物価の下落→企業収益の悪化→賃金の低下→売り上げの減少→物価の下落……というような悪循環がくり返される状態を何というか。 \_\_\_\_\_
- (6) 日本銀行が、景気調整のために行う政策を何というか。 \_\_\_\_\_
- (7) 好景気のときに、日本銀行は、世の中に出回る通貨量を減らすために、国債などを売るか買うか。 \_\_\_\_\_

# ビジュアルチェック

■ にあてはまる語句を答えなさい。

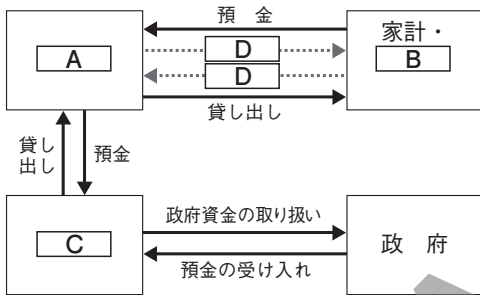
### 1 価格の決まり方



Xでは、A量がB量よりも多いため、価格はC。  
 YではB量がA量よりも多いため、価格はD。  
A量とB量が一致して決まるZの価格をE価格という。

- |   |                                  |
|---|----------------------------------|
| <input type="checkbox"/> A _____            | <input type="checkbox"/> B _____ |
| <input checked="" type="checkbox"/> C _____ | <input type="checkbox"/> D _____ |
| <input checked="" type="checkbox"/> E _____ |                                  |

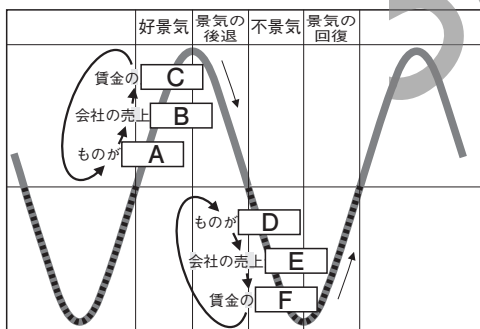
### 2 国民経済と銀行のはたらき



家計・BからAに支払われるDより、Aから家計・Bに支払われるDの利率のほうが低い。その差額が、Aの収入となっている。Cは、唯一の「発券銀行」、「政府の銀行」、「銀行の銀行」とよばれる。

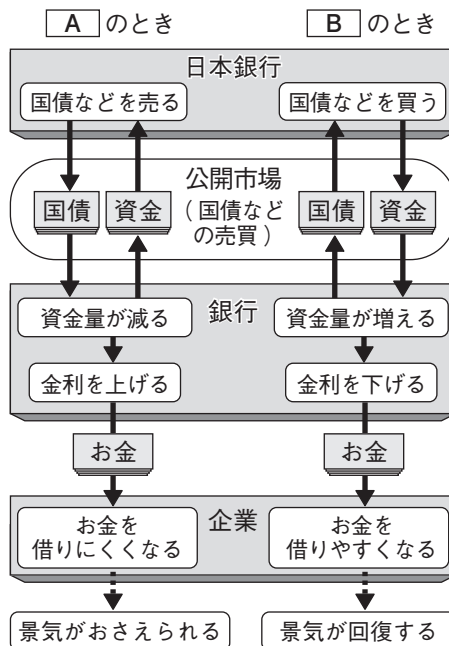
- |   |                                  |
|---|----------------------------------|
| <input type="checkbox"/> A _____            | <input type="checkbox"/> B _____ |
| <input checked="" type="checkbox"/> C _____ | <input type="checkbox"/> D _____ |

### 3 景気の変動



好景気ときは、A \_\_\_\_\_  
 もの（商品）の  
B \_\_\_\_\_  
 需要が供給を上  
C \_\_\_\_\_  
 回っているため、  
 ものの値段（物  
D \_\_\_\_\_  
 価）も上昇する。  
E \_\_\_\_\_  
 景気が後退して  
F \_\_\_\_\_  
 不景気が進行す  
 る場面では、供  
 給が需要を上回  
 っているため、  
 ものの値段は下  
 がってゆく。

### 4 公開市場操作



日本銀行が持つ国債などを、公開市場を通して銀行に売ると、銀行は手持ちの資金が減るので、お金を貸し出す金利（利子）を上げる。すると企業は銀行からお金を借りにくくなるため、企業は積極的に経済活動を行うことが難しくなり、景気がおさえられることになる。

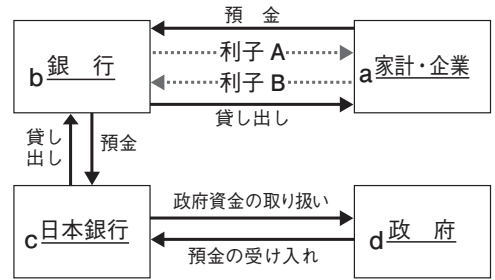
- |                                  |                                  |
|----------------------------------|----------------------------------|
| <input type="checkbox"/> A _____ | <input type="checkbox"/> B _____ |
|----------------------------------|----------------------------------|



**2** 〈金融のはたらきと日本銀行〉 右の資料1, 2を見て, 次の問いに答えなさい。

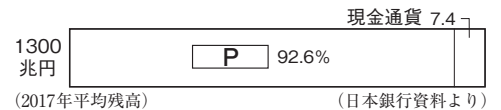
- (1) 資料1中の利子Aと利子Bの利率は, どちらが高いか。記号で答えなさい。 [            ]
- (2) 資料1中の下線部aと下線部bの取り引きは, 直接金融と間接金融のどちらか, 答えなさい。 [            ]
- (3) 通貨は, 資料1中の下線部a~dの間を回っている。資料2は, 日本における通貨量の内わけを示したグラフである。これを見て, 次の問いに答えなさい。

資料1 国民経済と銀行のはたらき



- ① [ P ] にあてはまる通貨を何というか。 [            ]
- ② ①の通貨の総額は約 [ Q ] 兆円である。 [ Q ] にあてはまる数字を, 1兆円未満を四捨五入して求めなさい。 [            兆円]

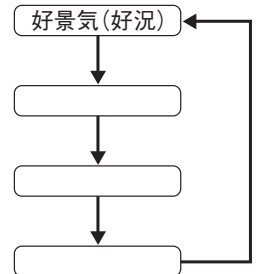
資料2 日本の通貨量の内わけ



- (4) 資料1中の下線部cについて述べた次の文中の [ X ] にあてはまる語句を答えなさい。また, Y からあてはまるものを, 1つ選びなさい。
- X [            ] Y [            ]
- 「日本銀行は, 日本の金融制度の中心となる [ X ] 銀行であり, 日本の経済や貨幣価値を安定させる役割をになっている。また, 日本銀行は, 日本で唯一の発券銀行であり, Y 【ア 紙幣    イ 硬貨    ウ 紙幣と硬貨】を発行している。」

**3** 〈景気変動と金融政策〉 右の図を見て, 次の問いに答えなさい。

- (1) 右の図は, 景気変動の模式図である。図中のA~Cにあてはまる語句を, 次からそれぞれ選びなさい。 A [            ] B [            ] C [            ]
- ア 回復    イ 後退    ウ 不景気 (不況)
- (2) 好景気のときについて, 次の問いに答えなさい。



- ① 好景気のときの経済の状態として正しいものを, 次から2つ選びなさい。 [            ] [            ]

- ア 失業者が増える。                      イ 生産が拡大する。  
 ウ 在庫が増える。                        エ 企業の利益が減る。  
 オ 賃金の下がる。                        カ 企業の倒産が増える。  
 キ ものがよく売れる。                    ク 家計の収入が減る。


- ② 好景気のとときには, インフレーション (インフレ) が起こりやすい。インフレーションとはどのような現象か。簡単に答えなさい。 [            ]
- ③ 好景気のとときに日本銀行が行う金融政策として正しいものを, 次から1つ選びなさい。 [            ]

- ア 一般の銀行に対して国債を売ることで, 世の中の資金量を増やす。  
 イ 一般の銀行に対して国債を売ることで, 世の中の資金量を減らす。  
 ウ 一般の銀行から国債を買うことで, 世の中の資金量を増やす。  
 エ 一般の銀行から国債を買うことで, 世の中の資金量を減らす。

紙面サンプルはここまでです。  
弊社教材サンプルをご覧いただき  
ありがとうございます。


塾・学校の先生限定サイト

Bunri Teachers' Site へのご登録で、  
全ページ版をご覧いただけます。



登録無料で、他にも便利な機能がたくさん！  
ぜひお役立て下さい。

Bunri Teachers' Site  
会員登録はこちら



※ご登録には弊社発行の招待コードが必要です。

### 教材サポート

単元テスト、指導用資料、  
学習サポートアイテムなど  
指導をサポートするコンテンツ



### 最新の教育情報

社会時事問題、高校入試分析、  
教科書採択情報など最新の  
教育に関する情報をお届け



### 各種教材やテストの お問い合わせ・お申込み

生徒さま一人一人に合った教材・  
テスト・デジタルコンテンツを  
ご提案



※Bunri Teachers' Siteは、塾・学校の先生方のための情報サイトです。

ユーザー登録していただくことで、会員限定の詳細情報をご覧いただくことができます。  
本サイトは一般の方のご利用をお断りしております。予めご了承ください。

お問い合わせフォーム



招待コード発行や教材の内容・ご購入方法等  
お気軽にお問い合わせ下さい。