

中学 実力練成テキスト

社会

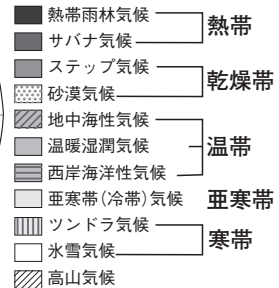
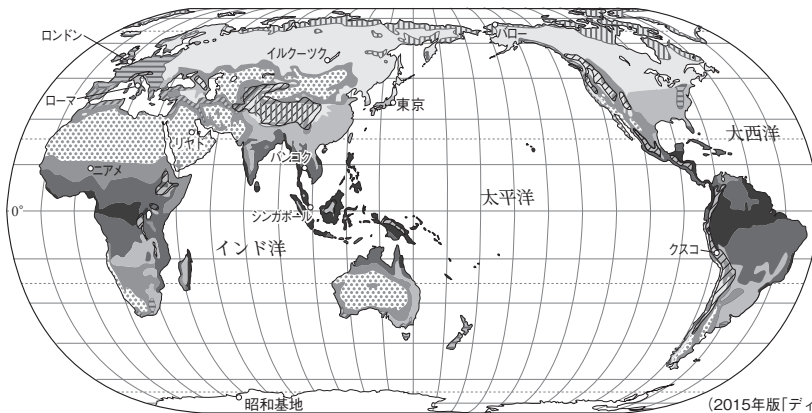
新訂版

地理

世界の気候とくらしや世界の気候区分等の問題集
中学社会 | 中学実力練成テキスト

4 世界の気候とくらし

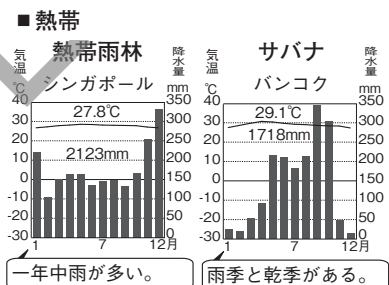
1 世界の気候区分



(2015年版「ディルケ世界地図」ほかより)

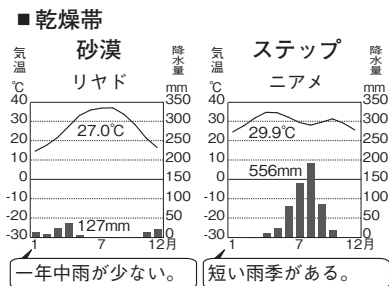
(1) 気候…気候は、気温・降水量・風などで表される。緯度・標高・地形・海流などの影響によって気候に違いが生まれる。
暖流は低緯度から高緯度へ、寒流は高緯度から低緯度へ流れる

- ① 気温…緯度に従って変化。太陽光の当たり方が強い低緯度ほど気温が高く、高緯度では気温が低くなる。
- ② 降水量…低緯度は降水量が多く、その周辺では降水量が少なくなる。地形や海洋、風などの影響で変化。
- ③ 風…一年中一定方向に吹く偏西風・貿易風。ほぼ半年ごとに風向きが変わる季節風(モンスーン)。
夏は海洋から、冬は大陸から吹く

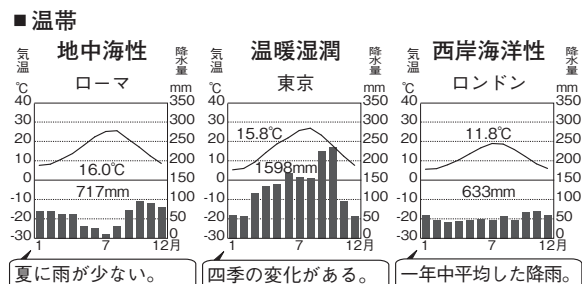


(2) 世界の気候区分…赤道から両極に向かって、熱帯→乾燥帯→温帯→亜寒帯(冷帯)→寒帯と分布。
ケッペンによる植生を南半球には見られない

- ① 熱帯…赤道付近。一年中高温。スコール。
 ● 熱帯雨林気候…一年中多雨。熱帯雨林(熱帯林)の密林。
 ● サバナ気候…季節風の影響を受け、海から湿った風が吹くと雨季、内陸から乾いた風が吹くと乾季。丈の長い草原。
- ② 乾燥帯…中緯度～内陸。降水量が少なく、森林は育たない。
 ● 砂漠気候…降水量はほとんどない。砂や岩の砂漠。
 ● ステップ気候…短い雨季。丈の短い草原が広がる。

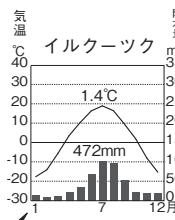


- ③ 温帯…中緯度付近。四季の変化がはっきりしている。一年中比較的温暖。
 ● 地中海性気候…夏は乾燥、冬は降雨。
 ● 温暖湿潤気候…大陸東岸。季節風の影響で、夏は高温で多湿、冬は寒冷で乾燥。
 ● 西岸海洋性気候…大陸西岸に多い。ヨーロッパの大西洋岸などでは偏西風と暖流の影響により、高緯度のわりに温暖で一年を通じて平均した降雨がある。



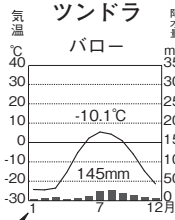
④ 亜寒帯(冷帯)…北半球の高緯度。夏は短く、冬は長く寒冷。夏冬の気温差が大きい。シベリアなどにタイガ(針葉樹林)が広がる。シベリア南部には針葉樹と広葉樹の混合林。

■ 亜寒帯(冷帯)



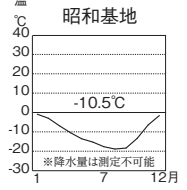
夏にやや高温。

■ 寒帯



一年中低温。

氷雪



⑤ 寒帯…北極と南極、それらの周辺。一年中寒冷。降水量は少なく、森林は育たない。

● ツンドラ気候…北極海沿岸。短い夏に雪や氷がとけ、草やこけ類が生える。

● 氷雪気候…南極やグリーンランド。一年中雪と氷。

(3) 高山気候…標高100mごとに気温が約0.65度低下し、低緯度地域でも標高の高いところは気温が低い。昼と夜の気温差大。

■ 高山気候



赤道に近いが気温が低い。

2 気候と人々のくらし

(1) 熱帯…木や葉、草でできた住居、熱や湿気をさけるため高床式。いも類や米が主食。ゆったりした衣服。河口や入り江のまわりにマングローブ、沿岸の浅い海にサンゴ礁が広がり、観光資源になっている。

■ 熱帯の住居

▼木や草などでできた高床の家



(2) 乾燥帯…水が得られるオアシス周辺で、かんがいにより小麦やなつめやしを栽培。らくだや羊の遊牧。森林などを燃やしたあとの灰を肥料に作物を育てる焼畑農業。長袖で丈の長い服。日干しれんがの住居や遊牧生活に適した移動式住居。

■ 乾燥帯の住居

▼日干しれんがの家



屋根が平ら

▼フェルトの家



組み立て式のゲル

● 砂漠化…たきぎの切りすぎや過放牧などが原因で不毛な荒地が広がること。サハラ砂漠南縁のサヘルなどで深刻。

(3) 温帯…地中海沿岸では、石造りの住居で窓が小さく、壁を白く塗る。小麦や乾燥に強いオリーブやオレンジ、ぶどうを栽培。シエスタとよばれる昼休憩の習慣→近年は廃止の動き。パカンスとよばれる長期旅行に出かける人が多い。

■ 亜寒帯(冷帯)の住居

▼コンクリートの家



▼丸太の家



(4) 亜寒帯(冷帯)…ロシアの高床式住居→暖房の熱が伝わり、永久凍土がとけて建物が傾くのを防ぐ。二重、三重の窓、厚い壁。ログハウス。じゃがいもやライ麦が主食。夏にダーチャとよばれる菜園付きの小さな別荘で野菜を栽培して保存。

■ 寒帯の住居

▼雪でできた家



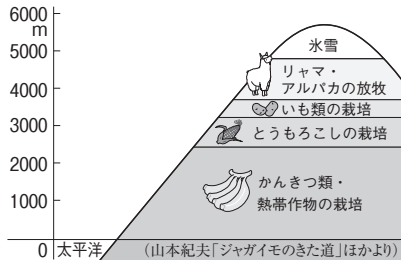
■ 高山の住居

▼石でできた家



(5) 寒帯…カナダ北部のイヌイットは、かつてはあざらしやカリブーの狩り。毛皮の衣服。冬は雪のイグルー、夏は毛皮のテントに住んだが、近年は定住化。犬ぞりからスノーモービルへ。肉や魚だけでなくパンや野菜を食べることも増えた。

■ アンデス高地の土地利用



(6) 高山…アンデス山脈では、標高に合わせて低いほうから、かんきつ類・熱帯作物→とうもろこし→じゃがいも→放牧(主にリャマは荷運び、アルパカは毛を衣服に利用)。寒さと強い紫外線を防ぐため、ポンチョを着用し、帽子をかぶる。石や日干しれんがの住居。

3 世界の衣食住

- (1) 世界の衣食住…食事は農業や宗教の影響、衣服・住居は気候など自然環境に適応→現代は食の国際化、洋服、コンクリートのビルなど、画一化が進む。
- (2) 主食…世界の三大穀物→米，小麦，とうもろこし。いも類。
- ① 米…雨が^{熱帯、温帯}多い地域。めん^{かくいつか}に加工する地域もある。
 - ② 小麦…雨が^{温帯、亜寒帯}少ない地域。チャパティやパン、めん^{パスタ、うどん}に加工。
 - ③ とうもろこし…^{アフリカ、南北アメリカ}粉状にしてトルティーヤなどに加工。
- (3) 衣服…暑い地域→風通しの良い木綿や麻の衣服。寒い地域→保温性の高い毛皮や毛糸の衣服。伝統的な民族衣装。
- (4) 住居…その地域で手に入りやすい材料^{祭りや結婚式で着る}でつくられる。
木・石・土(れんが) など

■さまざまな民族衣装

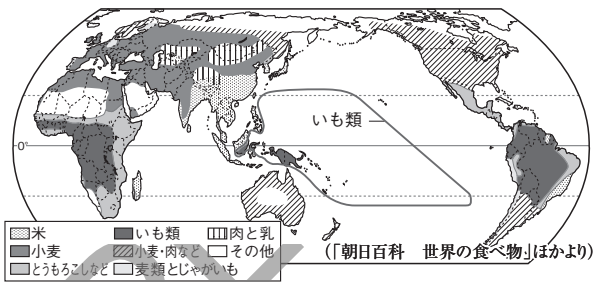
- ▼インドのサリー ▼韓国のチマ・チョゴリ ▼ペルーのボンチョ



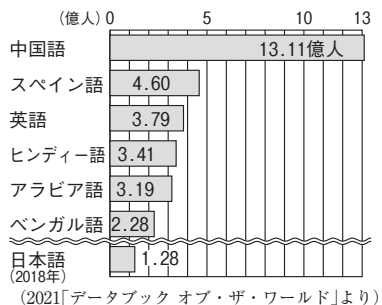
4 世界の民族・言語・宗教

- (1) 民族…言語・宗教・生活習慣などの文化の違いによって区分。ゲルマン系，ラテン系，スラブ系，アラブ系ほか。
- (2) 言語…人が最初に習得した言語を母語という。
- ① 中国語…言語別の使用人口が最も多い。
 - ② 英語…国際語として広まる。各国の公用語の1つ。
 - ③ スペイン語…スペインほか中南アメリカ諸国で使用。
- (3) 宗教…三大宗教=キリスト教，イスラム教，仏教。

■世界の主な食べ物

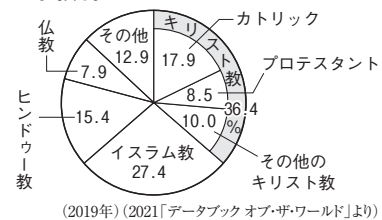


■主な言語別の人口

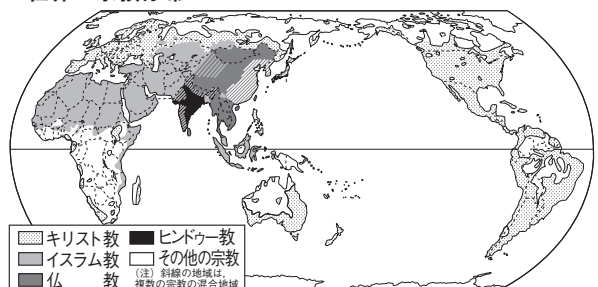


- ① キリスト教…紀元前後に、イエスがパレスチナで開く。その後、正教会，カトリック（旧教），プロテスタント（新教）などに分かれる。教典は「聖書」。日曜日^{きょうとん}に教会に行く。
- ② イスラム教…7世紀，ムハンマドがアラビア半島で開く。唯一神アッラーを信仰^{ゆいいつしん しんこう}。教典「コーラン」と厳しい戒律^{かいりつ}→聖地メッカに向かって1日5回，金曜日はモスクで礼拝。^{サウジアラビアにある}1年に1か月間日の出から日没まで断食，酒や豚肉は禁止，女性は家族以外に髪や肌を見せない。決まりを守った料理にハラルのマーク。スンニ派，シーア派。
- ③ 仏教…紀元前6世紀ごろ，シャカがインドで開く。大乘仏教→東アジア^{じょうぎぶ}，上座部仏教→東南アジア。教典は「経」。日ごろから僧侶^{そうりよ}に寄付。

■宗教別の人口



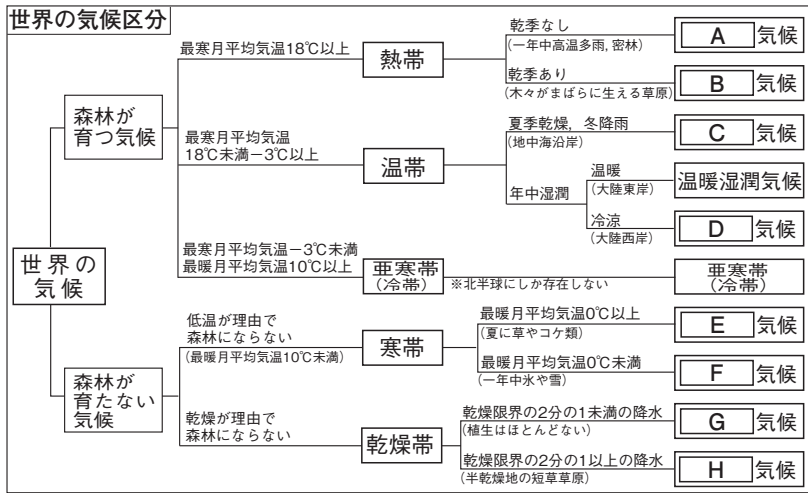
■世界の宗教分布



- ④ 民族宗教…民族や地域と深く結びついた宗教。
 - ヒンドウ教…インドで多くの人が信仰。牛肉を食べない。ガンジス川で沐浴。カーストによる差別のなごり。
 - ユダヤ教…ユダヤ人が信仰。
 - 神道…日本古来の宗教。

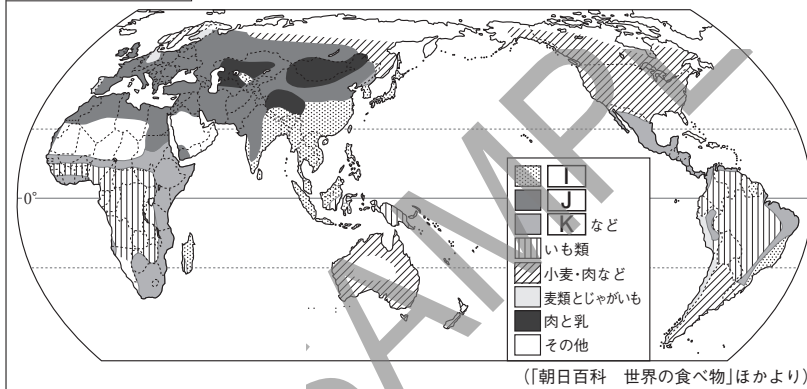
基本問題

1 〈図表問題〉 次の にあてはまる語句を答えなさい。



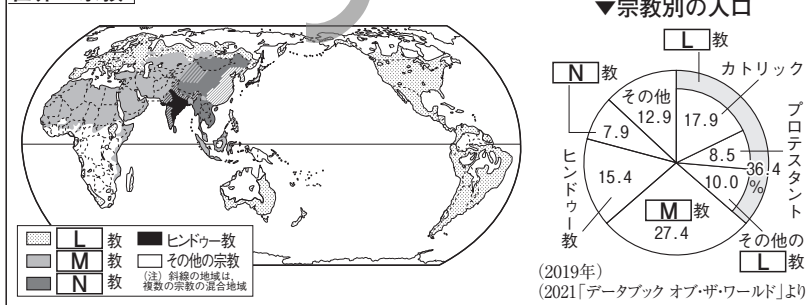
- A _____
- B _____
- C _____
- D _____
- E _____
- F _____
- G _____
- H _____

世界の主な食べ物 I・J・Kには小麦, 米, とうもろこしのいずれかがあてはまる。



- I _____
- J _____
- K _____

世界の宗教



- L _____
- M _____
- N _____

2 〈重要語句の確認〉 次の問いに答えなさい。

1 世界の気候区分

- ☑ (1) 大陸西岸の中緯度地域に、一年を通して吹く西よりの風を何というか。 (1) _____
- ☑ (2) ほぼ半年ごとに風向きが変わる風を何というか。 (2) _____
- ☑ (3) 赤道付近に広がる、一年中高温の気候帯を何というか。 (3) _____
- ☑ (4) (3)で、毎日のように一時的に強く降る雨を何というか。 (4) _____

- ☑(5) 南北の緯度が20～30度付近や内陸部に広がる、降水量が少なく、森林が育たない気候帯を何というか。(5) _____
- ☑(6) 赤道周辺に広がる、高さが50mにもなる密林を何というか。(6) _____
- ☑(7) (5)で、植物の生えない砂や岩だらけの土地を何というか。(7) _____
- ☑(8) 日本が属する、比較的温暖で四季の変化が明確な気候帯を何というか。(8) _____
- ☑(9) (8)に生える、ぶなやしいなどの幅の広い葉をもつ樹木を何というか。(9) _____
- ☑(10) 北半球の高緯度地域に広がる、夏は短く、冬は長く寒冷で、夏と冬の気温差が大きい気候帯を何というか。(10) _____
- ☑(11) (10)のシベリアなどに広がる針葉樹林を何というか。(11) _____
- ☑(12) 北極や南極周辺に広がる、一年中寒冷な気候帯を何というか。(12) _____
- ☑(13) 標高が高い地域は、周辺の標高が低い地域よりも気温が低くなる。アンデス山脈の高地などに広がるこのような気候を何というか。(13) _____

2 気候と人々の暮らし

- ☑(14) 熱帯の気候に適した住居のつくりを、次から1つ選びなさい。(14) _____
 【移動式 高床式 たてあな 竪穴式】
- ☑(15) 熱帯の河口や入り江のまわりの、川の水と海水が混じり合ったところで育つ広葉樹をまとめて何というか。(15) _____
- ☑(16) 熱帯の浅い海に見られる、サンゴの仲間の骨格や、石灰質でできたからをもつ生物の死骸が積み重なった地形を何というか。(16) _____
- ☑(17) 乾燥帯の地域で、水を得やすい場所を何というか。(17) _____
- ☑(18) 乾燥した土地に水を引くことを何というか。(18) _____
- ☑(19) えさとなる草や水を求めて、移動しながら家畜を飼うことを何というか。(19) _____
- ☑(20) 樹木などを伐採し、それを燃やした灰を肥料にして農作物を栽培する農業を何というか。(20) _____
- ☑(21) サハラ砂漠の南に広がる、乾燥した地域を何というか。(21) _____
- ☑(22) 地球規模で問題となっている、たきぎの切りすぎや過放牧などが原因で不毛な荒れ地が広がることを何というか。(22) _____
- ☑(23) スペインなどで、夏の暑さをさけて昼にとる長い休憩を何というか。(23) _____
- ☑(24) 亜寒帯(冷帯)のシベリアで見られる一年中凍ったままの土を何というか。(24) _____
- ☑(25) カナダの北極海沿岸に住む先住民を何というか。(25) _____
- ☑(26) アンデス山脈の高地で放牧されている、毛を衣服などに利用するための動物を次から1つ選びなさい。【羊 らくだ アルパカ カリブー】(26) _____

3 世界の衣食住

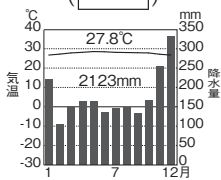
- ☑(27) 日常の食事の中心となる食べ物のことを何というか。(27) _____
- ☑(28) アンデス山脈の高地でくらす人々の主食は何か。(28) _____
- ☑(29) インドの女性が着る民族衣装を何というか。次から1つ選びなさい。(29) _____
 【チマ・チョゴリ ポンチョ サリー チャドル】
- ☑(30) 地中海沿岸のイタリアやスペインなどで、伝統的住居に用いられる素材を、次から1つ選びなさい。【木 石 日干しれんが 毛皮】(30) _____

4 世界の民族・言語・宗教

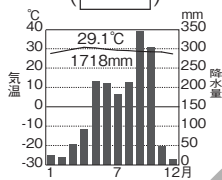
- ☑(31) 言語・宗教・生活習慣などの文化の違いによる人々の区分を何という (31) _____
か。
- ☑(32) 世界で最も多くの人々が話している言語は何か。 (32) _____
- ☑(33) 中南アメリカ諸国で多く話されているヨーロッパの言語は何か。 (33) _____
- ☑(34) イスラム教の教典を何というか。 (34) _____
- ☑(35) 仏教のうち、東南アジアやスリランカで信仰されているのは大乘仏教と (35) _____
上座部仏教のどちらか。
- ☑(36) インドで多くの人々が信仰している宗教は何か。 (36) _____
- ☑(37) ヒンドゥー教徒は、かつて何とよばれる身分制度で、職業や結婚の範囲 (37) _____
が限られていたか。

3 〈選択問題〉 次の にあてはまる都市を、地図から選びなさい。

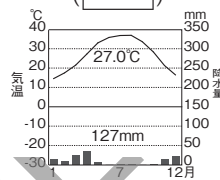
- ☑(1) 熱帯雨林気候 () (1) _____



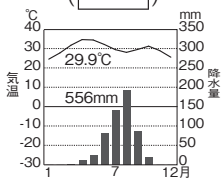
- ☑(2) サバナ気候 () (2) _____



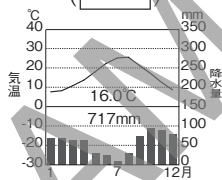
- ☑(3) 砂漠気候 () (3) _____



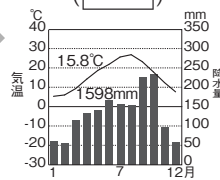
- ☑(4) ステップ気候 () (4) _____



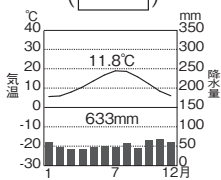
- ☑(5) 地中海性気候 () (5) _____



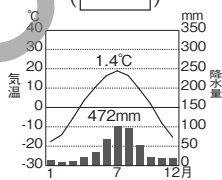
- ☑(6) 温暖湿潤気候 () (6) _____



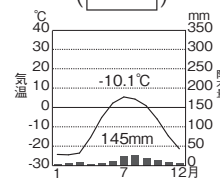
- ☑(7) 西岸海洋性気候 () (7) _____



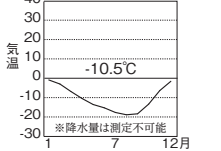
- ☑(8) 亜寒帯(冷帯)気候 () (8) _____



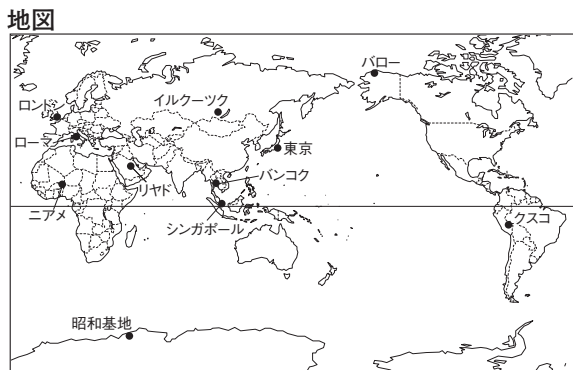
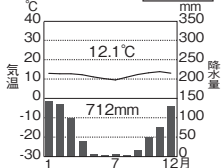
- ☑(9) ツンドラ気候 () (9) _____



- ☑(10) 氷雪気候 () (10) _____



- ☑(11) 高山気候 () (11) _____



(気象庁資料ほかより)

標準問題

1 〈世界の気候区分〉 次の文を読んで、あとの問いに答えなさい。

気候は a 気温・降水量・(A) などの様子で説明される。 b 緯度・標高・地形・ c 海流などが気候に大きな影響を与えている。ドイツの気候学者 (B) は、(C) の分布に注目し、気温と降水量をもとに d 世界の気候を大きく5つに区分した。

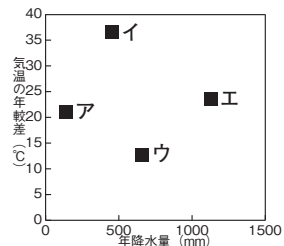
(1) () A～Cにあてはまる語句を答えなさい。

A [] B [] C []

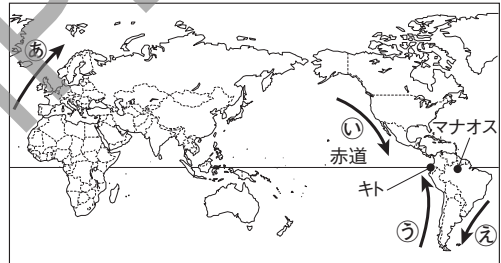
(2) 下線部 a について、次の表を参考にして、①ロンドンと②イルクーツクの気温の年較差(最暖月平均気温と最寒月平均気温の差)と年降水量を示したものを、図中のア～エから1つ選びなさい。

月	1	2	3	4	5	6	7	8	9	10	11	12	全年
ロンドン 降水量(mm)	59.7	46.6	41.7	42.6	46.9	49.7	47.2	57.7	46.1	66.3	69.3	59.6	年間633.4mm
ロンドン 気温(°C)	5.7	6.0	8.0	10.5	13.7	16.8	19.0	18.7	15.9	12.3	8.5	6.1	平均11.8°C
イルクーツク 降水量(mm)	14.6	9.7	11.8	21.6	35.2	68.6	101.4	96.5	52.6	21.1	20.2	18.5	年間471.8mm
イルクーツク 気温(°C)	-17.6	-14.0	-5.5	3.6	10.4	16.4	19.0	16.5	9.5	2.0	-7.9	-15.3	平均1.4°C

(気象庁資料より)



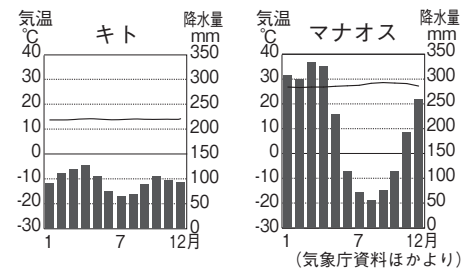
(3) 下線部 b について、南アメリカ大陸のほぼ同じ緯度に位置するキトとマナオスの気候の違いについて、右の地図と雨温図を見て、次の文の()にあてはまる言葉を答えなさい。



[]

キトとマナオスは、いずれも赤道近くに位置しているが、キトはマナオスよりも一年中涼しい気候である。これは、キトのほうがマナオスより()からと考えられる。

雨温図



(4) 下線部 c について、地図中の①～⑥の海流のうち、暖流の組み合わせを次から1つ選びなさい。

[]

- ア ①と② イ ①と③ ウ ①と⑤
- エ ②と③ オ ②と⑥ カ ③と⑥

(5) 下線部 d について、右の表は世界の六大大陸別に、その大陸に占める気候帯の面積割合を示したものである。①～⑥の大陸にあてはまるものを、表中のア～カからそれぞれ選びなさい。

	ア	イ	ウ	エ	オ	カ
熱帯	—	5.2	7.4	16.9	38.6	63.4
乾燥帯	—	14.4	26.1	57.2	46.7	14.0
温帯	—	13.5	17.5	25.9	14.7	21.0
亜寒帯(冷帯)	—	43.4	39.2	—	—	—
寒帯	100.0	23.5	9.8	—	—	1.6

単位:% (2021「データブック オブ・ザ・ワールド」より)

- ① ユーラシア大陸 [] ② アフリカ大陸 [] ③ オーストラリア大陸 []
- ④ 北アメリカ大陸 [] ⑤ 南アメリカ大陸 [] ⑥ 南極大陸 []

2 〈気候と人々のくらし〉ある気候区の様子を述べた次の文を読んで、あとの問いに答えなさい。

- ① 一年を通してほとんど雨が降らず、(A)をのぞくと砂や岩だけの土地が広がる。
- ② 一年中凍った状態の(B)が広がっているが、短い夏には地表がとけて、こけ類などが生える。
- ③ 一年を通して降水量は少ないが、短い雨季もあるため、(C)とよばれる、丈の短い草原が広がる。
- ④ ヨーロッパの(D)沿岸では、温暖で、夏は乾燥し、冬は雨が降る気候になる。
- ⑤ 一年中暑く、季節風の影響で、a雨が多い時期と、b雨が少ない時期がある。

- (1) () A～Dにあてはまる語句を答えなさい。 A []
B [] C [] D []
- (2) 下線部 a, bをそれぞれ何というか。 a [] b []
- (3) ①～⑤のうち、同じ気候帯に属する気候区が2つある。その2つを選びなさい。 [] []
- (4) 右の写真はどの地域で見られる伝統的住居か、①～⑤から1つ選びなさい。また、そう判断した理由を、簡単に説明しなさい。 []
[]
- (5) ②～⑤の気候区の地域の伝統的なくらしの様子を、次からそれぞれ選びなさい。

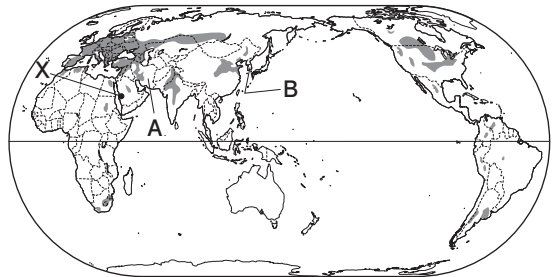


- ② [] ③ [] ④ [] ⑤ []

- ア あざらしやカリブーの狩り イ オリーブやオレンジ、ぶどうの栽培
- ウ 羊やらくだの遊牧 エ 稲の二期作

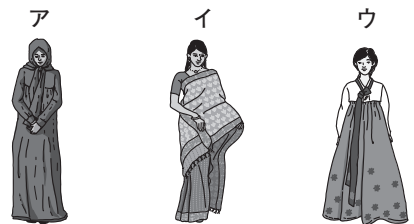
3 〈世界の衣食住、世界の民族・言語・宗教〉右の地図を見て、次の問いに答えなさい。

- (1) 地図中の [] は、世界の主な小麦の栽培地域を示している。小麦が多く栽培されている気候帯を、次から2つ選びなさい。
[] []



- ア 熱帯 イ 乾燥帯
- ウ 温帯 エ 冷帯
- オ 寒帯

- (2) A, Bの国で見られる伝統的な衣服を、右のア～ウからそれぞれ選びなさい。 A [] B []




- (3) 都市Xが聖地になっている宗教について、次の問いに答えなさい。

- ① この宗教を何というか答えなさい。
[]
- ② この宗教を信仰する人々のくらしを、次から1つ選びなさい。 []
ア 牛は神聖な動物とされ、大切にしている。
イ 聖書を読み、日曜日には教会でいのりをささげる。
ウ 1日5回、聖地に向かっている。

紙面サンプルはここまでです。
弊社教材サンプルをご覧いただき
ありがとうございます。


塾・学校の先生限定サイト

Bunri Teachers' Site へのご登録で、
全ページ版をご覧いただけます。



登録無料で、他にも便利な機能がたくさん！
ぜひお役立て下さい。

Bunri Teachers' Site
会員登録はこちら



※ご登録には弊社発行の招待コードが必要です。

教材サポート

単元テスト、指導用資料、
学習サポートアイテムなど
指導をサポートするコンテンツ



最新の教育情報

社会時事問題、高校入試分析、
教科書採択情報など最新の
教育に関する情報をお届け



各種教材やテストの お問い合わせ・お申込み

生徒さま一人一人に合った教材・
テスト・デジタルコンテンツを
ご提案



※Bunri Teachers' Siteは、塾・学校の先生方のための情報サイトです。

ユーザー登録していただくことで、会員限定の詳細情報をご覧いただくことができます。
本サイトは一般の方のご利用をお断りしております。予めご了承ください。

お問い合わせフォーム



招待コード発行や教材の内容・ご購入方法等
お気軽にお問い合わせ下さい。