

夏期テキスト

必修編

社会

中学

1

年

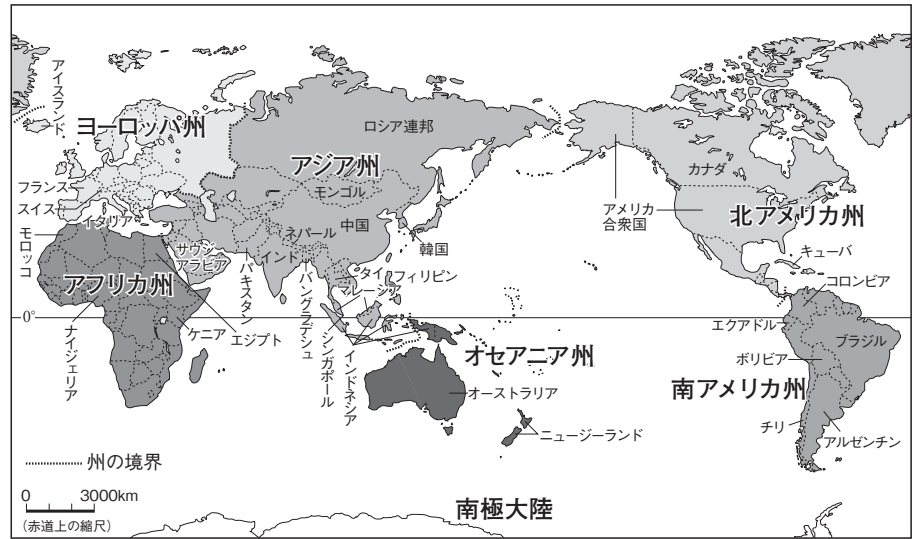
第 2 講座

世界の国々

1 世界の国々

- (1) 世界の国の数…197(2020年6月現在、朝鮮民主主義人民共和国を含む)。
- (2) 南極大陸以外は、大きく六つの州に分けられる。

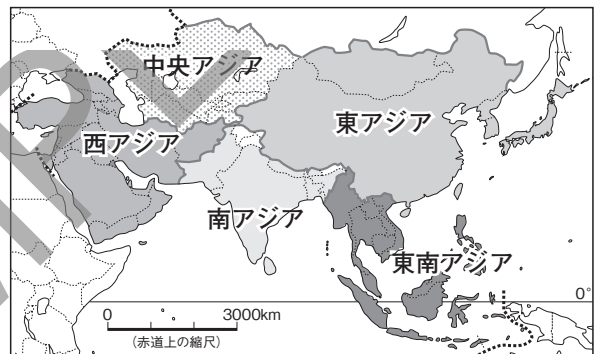
▼世界の国々と六つの州区分



2 世界の主な国

- (1) 日本に近い国…中華人民共和国、大韓民国など。
- (2) 日本から遠い国…南アメリカ州のアルゼンチンなど。
- (3) 面積の大きな国と小さな国…ロシア連邦が最大。日本は大きい方から数えて61番目。世界一小さい国はイタリアのローマ市内に位置するバチカン市国。

▼アジア州の地域区分



3 国境の決まり方

- (1) 国境…国と国の境界。
 - ① 自然物を利用した国境線…山脈や河川、湖、海。
 - ② 人工的な国境線…緯線や経線などを利用し、直線的なものが多い。かつてヨーロッパ州の国々の植民地であった影響で、アフリカ州に多く見られる。

▼世界の国々の面積 (2018年)

順位	国名	面積 (万km ²)
1	ロシア連邦	1710
2	カナダ	999
3	アメリカ合衆国	983
4	中国	960
5	ブラジル	852
6	オーストラリア	769
⋮		
	日本	38
⋮		
	バチカン市国	0.00004
	世界計	130.1百万km ²

▼人口の多い国 (2020年)

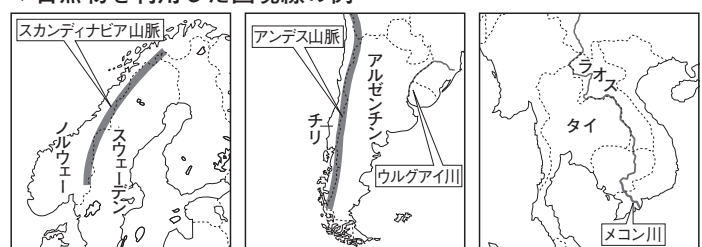
順位	国名	人口 (千人)
1	中国	1,439,324
2	インド	1,380,004
3	アメリカ合衆国	331,003
4	インドネシア	273,524
5	パキスタン	220,892
6	ブラジル	212,559
7	ナイジェリア	206,140
8	バングラデシュ	164,689
9	ロシア連邦	145,934
10	メキシコ	128,933
	世界計	779480万人

(2020/21年版「世界国勢図会」ほかより)

4 国名と国旗

- (1) 国名の由来
 - ① 自然…インダス川→インド, 「寒い」→チリ, 「氷の国」→アイスランド など。
 - ② 人名…スペイン皇太子フェリペ→フィリピン, アメリゴ・ベスプッチ→アメリカ合衆国, コロンブス→コロンビア など。
 - ③ その他…「赤道」→エクアドル, 「フランク族の地」→フランス, 「東の国」→オーストリア など。
- (2) 国旗…その国の歴史や人々の思いがこめられ、複数の国々で共通したデザインもある。

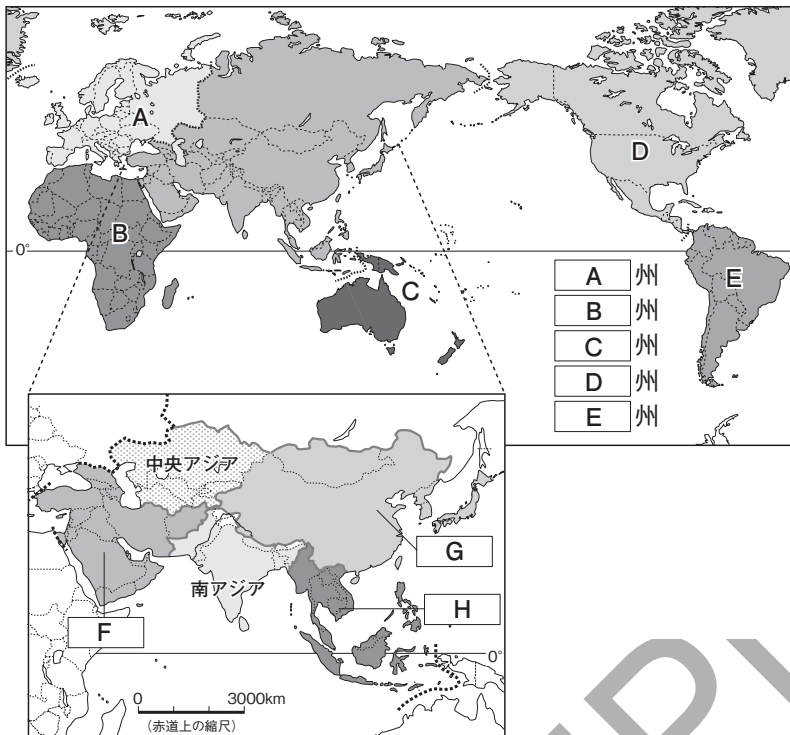
▼自然物を利用した国境線の例



確認問題

1 にあてはまる語句を答えなさい。

六つの州に分けられる世界



A	州
B	州
C	州
D	州
E	州

A _____

B _____

C _____

D _____

E _____

F _____

G _____

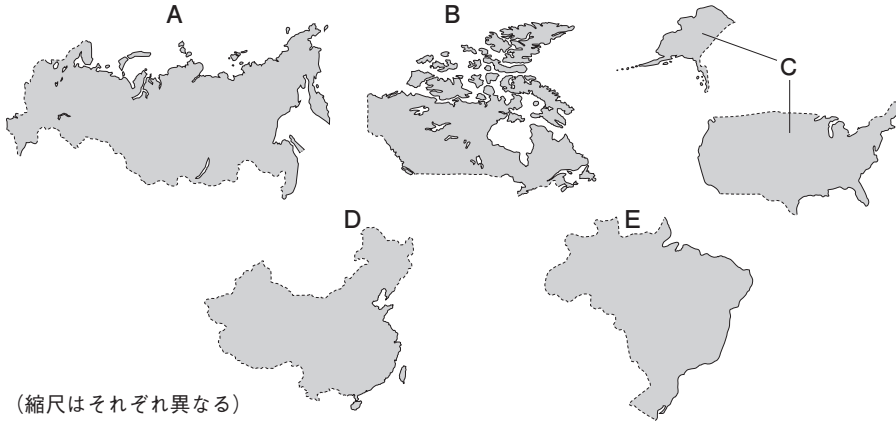
H _____

2 次の問いに答えなさい。

- (1) 世界には現在、約いくつの国があるか。次から選びなさい。 (1) _____
【 120 150 200 210 】
- (2) 世界の国や地域を六つの州に区分したとき、どの州にも区分されない大陸は何大陸か。 (2) _____
- (3) 世界で最も面積の大きい国はどこか。 (3) _____
- (4) 世界で最も面積の小さい国はどこか。 (4) _____
- (5) 世界で最も人口の多い国はどこか (2020年)。 (5) _____
- (6) 世界で2番目に人口の多い国はどこか (2020年)。 (6) _____
- (7) 世界の州のうち、ヨーロッパ各国の植民地支配の影響で、直線の国境が多いのはどこの州か。 (7) _____
- (8) 日本などのように、国土のまわりを海で囲まれた国を何というか。 (8) _____
- (9) モンゴルなどのように、国土が海に面していない国を何というか。 (9) _____
- (10) スペイン語で「赤道」を意味する語句が国名の由来となっている、南アメリカ州に位置する国はどこか。 (10) _____

図表問題

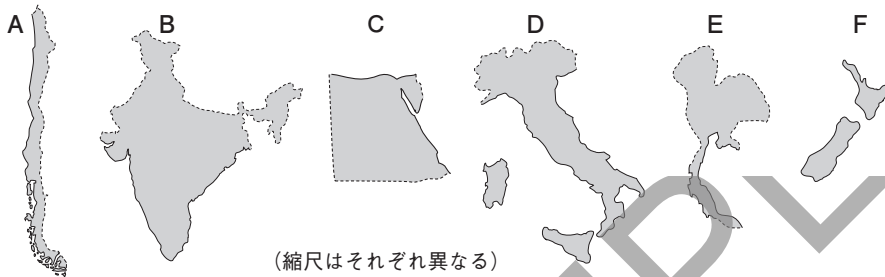
1 面積の大きい上位5か国を示した次の図のA～Eにあてはまる国名を答えなさい。



(縮尺はそれぞれ異なる)

- A []
- B []
- C []
- D []
- E []

2 特徴的な形の国々を示した次の図のA～Fにあてはまる国名を答えなさい。

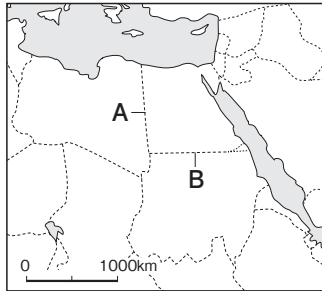


(縮尺はそれぞれ異なる)

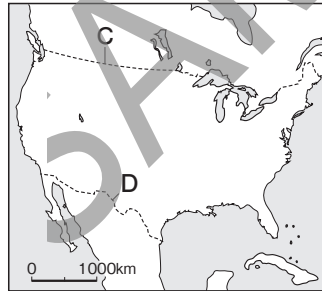
- A []
- B []
- C []
- D []
- E []
- F []

3 次の地図中のA～Fの国境の基準としてあてはまるものを、あとからそれぞれ選びなさい。ただし、同じ記号を2回以上使ってもよい。

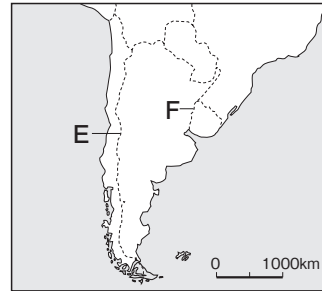
地図1



地図2



地図3



- A []
- B []
- C []
- D []
- E []
- F []

ア 山脈 イ 河川 ウ 緯線 エ 経線

4 次の表中のA～Gにあてはまる国名を、あとからそれぞれ選びなさい。

	国名	属する州	由来 (いずれも有力な説の一つ)
自然や地形	A	アジア	インダス川の名前。
	B	南アメリカ	「寒い」の意味。
	C	ヨーロッパ	「氷の国」の意味。
人名	D	アジア	16世紀のスペイン皇太子のフェリペ。
	E	南アメリカ	探検家のコロンブス。
その他	F	南アメリカ	「赤道」という意味。
	G	ヨーロッパ	「東の国」という意味。

- A []
- B []
- C []
- D []
- E []
- F []
- G []

ア アイスランド イ コロンビア ウ エクアドル エ インド オ オーストリア
 カ フィリピン キ チリ

演習問題

1 右の地図を見て、次の問いに答えなさい。

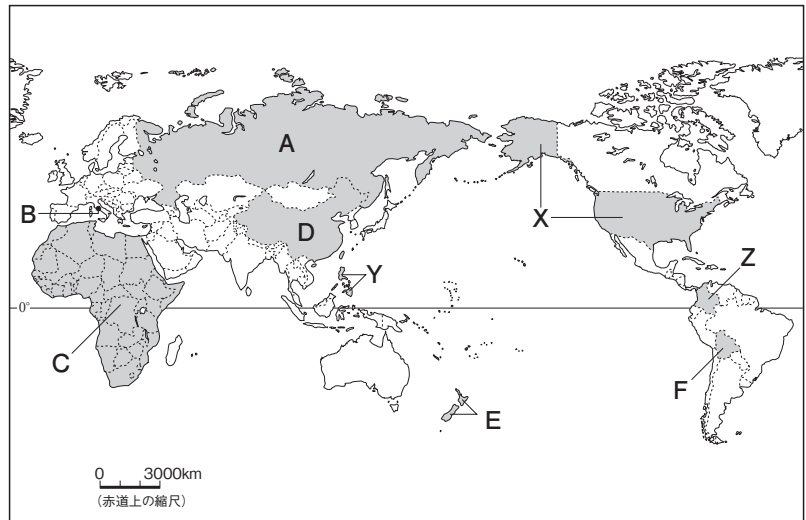
- (1) 世界のさまざまな国と地域を州に区分するとき、①いくつかの州に区分されるか。②日本はアジア州の中でもさらにどの地域に区分されるか。それぞれ答えなさい。

① [] っ

② []

- (2) Aの国はアジア州とどこの州にまたがっているか。もう1つの州名を答えなさい。

[]



- (3) Bにある、面積が世界最小の国の名前を答えなさい。また、この国が位置する都市名を答えなさい。

国名 [] 都市名 []

- (4) Cの大陸に見られる国境の特徴としてあてはまるものを、次から1つ選びなさい。 []

ア 一つの大陸で一つの国家を形成するため、陸上の国境はない。

イ 山がちな地形であるため、山脈を基準とした国境が多い。

ウ 水源が豊富な地域であるため、河川や湖を基準とした国境が多い。

エ かつて植民地支配をされていたなごりで、直線の国境が多い。

- (5) Dの国は、世界で人口が最も多い国である（2020年）。次の問いに答えなさい。

① Dの国の国名を答えなさい。 []

② Dの国よりも面積が大きい国を、次から1つ選びなさい。 []

ア ブラジル イ インド ウ カナダ エ フランス

③ アジア州を細かく区分したときにDの国が属する地域を、次から1つ選びなさい。 []

ア 西アジア イ 東アジア ウ 中央アジア エ 東南アジア

- (6) Eの国について、次の問いに答えなさい。

① Eの国の国名を答えなさい。 []

② Eの国のように、まわりを海で囲まれた国を何というか、答えなさい。 []

③ Eの国と同じように、まわりを海で囲まれた国を、次から1つ選びなさい。 []

ア エクアドル イ タイ ウ モンゴル エ キューバ

- (7) Fの国について、次の問いに答えなさい。

① Fの国のように、海に面していない国を何というか。 []

② Fの国と同じように、海に面していない国を、次から1つ選びなさい。 []

ア イラン イ スウェーデン ウ スイス エ スリランカ

- (8) 次の【 】は、X～Zのいずれかの国名である。これらの国の国名に共通していることを、「由来」という語句を用いて説明しなさい。


【 フィリピン アメリカ合衆国 コロンビア 】

[]

紙面サンプルはここまでです。
弊社教材サンプルをご覧ください
ありがとうございます。


塾・学校の先生限定サイト

Bunri Teachers' Site へのご登録で、
全ページ版をご覧ください。



登録無料で、他にも便利な機能がたくさん！
ぜひお役立て下さい。

Bunri Teachers' Site
会員登録はこちら



※ご登録には弊社発行の招待コードが必要です。

教材サポート

単元テスト、指導用資料、
学習サポートアイテムなど
指導をサポートするコンテンツ



最新の教育情報

社会時事問題、高校入試分析、
教科書採択情報など最新の
教育に関する情報をお届け



各種教材やテストの お問い合わせ・お申込み

生徒さま一人一人に合った教材・
テスト・デジタルコンテンツを
ご提案



※Bunri Teachers' Siteは、塾・学校の先生方のための情報サイトです。

ユーザー登録していただくことで、会員限定の詳細情報をご覧ください。本サイトは一般の方のご利用をお断りしております。予めご了承ください。

お問い合わせフォーム



招待コード発行や教材の内容・ご購入方法等
お気軽にお問い合わせ下さい。