

春期テキスト

必修編

社会


中学
新

3年

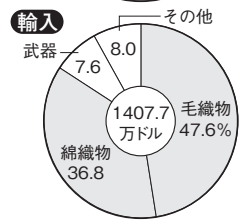
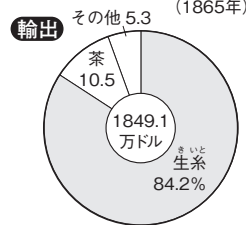
第 7 講座

日本の近代
幕末～日清・日露戦争

1 次の年表を見て、〔 〕にあてはまる語句を答えなさい。

時代	日本のできごと	世界のできごと
江戸	1853 アメリカの①〔 〕が浦賀に来る 東インド艦隊司令長官	1851 欧米で産業革命 太平天国の乱
	1854 ②〔 〕条約を結ぶ 下田・函館を開きアメリカ船に水や食料を与える	1853 クリミア戦争
	1858 ③〔 〕条約を結ぶ アメリカの領事裁判権を認め、 日本に關稅自主權がない不平等條約	1857 インド大反乱 1858 イギリスがインドを 直接支配
	1858 大老井伊直弼による④〔 〕 開國反對派を厳しく処罰	
	1860 桜田門外の変 ●⑤〔 〕運動が高まる 天皇を尊び、外国を打ち払おうとする運動	1861 イタリア王国成立 1861 アメリカ南北戦争
	1866 坂本龍馬の仲立ちで⑥〔 〕が成立 薩摩藩…大久保利通・西郷隆盛、長州藩…木戸孝允	
	1867 徳川慶喜が⑦〔 〕を行う 政權を天皇に返す	
	1867 王政復古の号令	
	1868 戊辰戦争	
	1868 明治天皇の名で⑧〔 〕を出す	
明治	1869 版籍奉還 中央集権体制	
	1871 ⑨〔 〕 藩を廃止し県や府を置く	1871 ドイツ統一
	1872 学制公布	▼岩倉使節団 
	1873 徴兵令 富国強兵←殖産興業	1871年から欧米を視察
	1873 ⑩〔 〕 土地所有者に地価の3%を現金で納めさせる	
	1874 民撰議院設立の建白書 ●自由民権運動の高まり	▼文明開化 鉄道・郵便・電信 「学問のすゝめ」福沢諭吉
	1876 日朝修好条規を結ぶ	
	1877 ⑪〔 〕を中心に西南戦争 征韓論に敗れ政府をやめる	
	1880 大阪で国会期成同盟が結成される	
	1881 国会開設の勅諭→板垣退助が⑫〔 〕党結成	
1882 大隈重信が⑬〔 〕党結成		
1885 内閣制度ができる …初代内閣総理大臣⑭〔 〕		

▼日本の主な貿易品 (1865年)



ひろ かい ぎ おこ ほん き
 一 広く会議ヲ興シ万機
 公論ニ決スヘシ
 上下心ヲ一ニシテ盛
 二 経綸ヲ行ウヘシ

時代	日本のできごと	
明治	1889	⑮ [] 憲法が公布される ドイツ憲法を参考
	1890	第1回帝国議会 貴族院, ⑯ [] 直接国税15円以上を納める25歳以上の男子による選挙で選ばれる
	1894	外相⑰ [] が領事裁判権の撤廃に成功
	1894	⑱ [] 戦争が始まる 朝鮮で起こった甲午農民戦争に対し両国が出兵
	1895	⑲ [] 条約
	1895	⑳ [] を受ける ロシア・ドイツ・フランスが遼東半島を清に返すよう要求
	1902	㉑ [] を結ぶ 共同でロシアに対抗するため
	1904	㉒ [] 戦争が始まる 韓国や満州をめぐる両国が対立
	1905	㉓ [] 条約
	1910	韓国併合
	1911	外相㉔ [] が関税自主権を回復

第1条 大日本帝国八万世一系ノ天皇之ヲ統治ス

第3条 天皇ハ神聖ニシテ侵スヘカラス

第11条 天皇ハ陸海軍ヲ統帥ス

■明治時代の文化

「舞姫」(森鷗外)
 「坊っちゃん」(夏目漱石)
 短歌(石川啄木, 与謝野晶子)
 洋画(黒田清輝)
 日本画(横山大観)
 赤痢菌発見(志賀潔)

世界のできごと	
1911	辛亥革命
1912	中華民国成立
	清ほろびる

2 次の地図を見て、[] にあてはまる語句を答えなさい。

① [] 事件
1875年, 翌年の日朝修好条規のきっかけ

② [] 半島
下関条約で獲得したが三国干渉で返還

③ [] 事件
1900年, 中国の民衆が各国の公使館を包囲

④ []
1901年, 操業開始

⑤ []
1879年, 琉球藩を廃して置く

⑥ []
下関条約で獲得し総督府を置く

⑦ [] 条約
1875年, ロシアと国境画定
1905年, ポーツマス条約で南樺太を獲得

⑧ []
を置き, 屯田兵を送る

⑨ []
群馬県につくられた官営模範工場

⑩ []
日米修好通商条約で開港最大の貿易港

⑪ []
1853年, ペリーが4隻の黒船を率いて来航

⑫ [] 事件
イギリス船が沈没し日本人乗客が水死

確認問題

■ 次の問いに答えなさい。

- (1) イギリスで始まった、機械による大量生産によって、産業や社会の様
子が大きく変わったことを何というか。 (1) _____
- (2) 日米和親条約で開港し、アメリカ船に食料や水、燃料の補給を認めた
2港はどこどこか。 (2) _____
- (3) 日米修好通商条約で、日本は自由に関税をかけられる権利を認められ
なかったため、外国の安い綿製品が大量に輸入され、国内の産地が打撃
を受けた。この権利を何というか。 (3) _____
- (4) 日米修好通商条約を結び、開国反対派を厳しく処罰した江戸幕府の大
老はだれか。 (4) _____
- (5) 関門海峡を通る外国船を砲撃するなど、攘夷を行ったが失敗し、強い
国をつくるため、倒幕運動を進めた藩はどこか。 (5) _____
- (6) 薩長同盟の仲介をした、土佐藩出身の人物はだれか。 (6) _____
- (7) 大政奉還を行った、江戸幕府最後の将軍はだれか。 (7) _____
- (8) 王政復古の号令ののち、旧幕府軍と新政府軍との間で行われた一連
の戦いを何というか。 (8) _____
- (9) 産業を盛んにして国力をつけ、強い軍隊を持つという明治政府のス
ローガンを何というか。 (9) _____
- (10) 1872年に公布された、6歳以上の男女が小学校に通うことを定めたき
まりを何というか。 (10) _____
- (11) 1873年に出された、20歳以上の男子は軍隊に入る義務を持つことを定
めた法律は何か。 (11) _____
- (12) 洋装や洋館、肉食が広まるなど、欧米の文化を取り入れて、生活・文
化が変化したことを何というか。 (12) _____
- (13) 「学問のすゝめ」を著して、学問の大切さと人間の平等を説いた人物
はだれか。 (13) _____
- (14) 民撰議院設立の建白書を提出し、のちに自由党を結成した人物はだれ
か。 (14) _____
- (15) 藩閥政治を批判し、言論によって、国民の政治参加を求める運動を何
というか。 (15) _____
- (16) 帝国議会を構成する議院のうち、皇族・華族や、天皇が任命した議員
からなる議院を何というか。 (16) _____
- (17) ノルマントン号事件では、罪を犯した外国人を日本の法律で裁くこと
ができず、日本では、外国が持つある権利の撤廃を求める国民の声が高
まった。この権利を何というか。 (17) _____
- (18) 日英同盟は、どこの国に共同で対抗するために結ばれたか。 (18) _____

演習問題

1 次の資料を読んで、あとの問いに答えなさい。

資料1

第4条 すべて日本に対してa輸出入する商品は別に定めるとおり、日本政府へ関税を納めること。
第6条 日本人に対して法を犯したアメリカ人は、アメリカ領事裁判所において取り調べのうえ、アメリカの法律によって罰すること。

資料2

第1条 だい にっぽんていこく ばんせい いっけい 大日本帝国八万世一系
ノ**□b**之ヲ統治ス
第3条 **□b**八神聖ニシテ
侵スベカラズ
第11条 **□b**八陸海軍ヲ統帥ス

資料3

・清はc朝鮮の独立を認める。
・遼東半島・台湾・澎湖諸島を日本にゆずる。
・賠償金2億両を日本に支払う。

(1) 資料1について、次の問いに答えなさい。

- ① 下線部aについて、当時の日本の最大の輸出品を、次から1つ選びなさい。 []
ア 毛織物 イ 銀 ウ 茶 エ 生糸
- ② この条約が結ばれたあとに起こった次のア～ウのできごとを、年代の古い順に並べなさい。
ア 薩摩藩と長州藩が倒幕のために同盟を結ぶ。 [→]
イ 安政の大獄で、吉田松陰らが処罰される。
ウ 井伊直弼が桜田門外で水戸藩の浪士らに暗殺される。
- ③ この条約は日本にとって不平等なものだった。この条約をはじめ、欧米諸国と結んだ不平等条約の改正の交渉のため、1871年に政府が派遣した使節団を何というか。 []

(2) 資料2について、次の問いに答えなさい。

- ① この憲法は、どこの国の憲法を参考につくられたか。 []
② **□b**にあてはまる語句を答えなさい。 []
③ この憲法が公布された翌年に行われた衆議院議員選挙の選挙権を持っていたのは、どのような人だったか。簡単に説明しなさい。
[]

(3) 資料3について、次の問いに答えなさい。

- ① この条約を何というか。 []
② この条約が結ばれる前年に下線部cで起こったできごとを、次から1つ選びなさい。 []
ア 義和団事件 イ 甲午農民戦争 ウ 太平天国の乱 エ 江華島事件

2 次の文を読んで、あとの問いに答えなさい。

明治政府は、学制・兵制・a税制の改革を行い、富国強兵を進めた。また、富岡製糸場などの**□b**をつくってc西洋の技術を取り入れ近代産業の育成を図ったため、日清戦争のころには軽工業、日露戦争のころには重工業でd産業革命が進んだ。

(1) 下線部aについて述べた次の文中の()にあてはまる語句をそれぞれ答えなさい。

- ①[] ②[] ③[]


「土地の(①)者に、土地の(②)の3%を(③)で納めさせることにした。」

- (2) **□b**にあてはまる語句を答えなさい。 []
(3) 下線部cを何というか。 []
(4) 下線部dを世界で最初になしとげ、中国やインドに進出した国はどこか。 []

紙面サンプルはここまでです。
弊社教材サンプルをご覧ください
ありがとうございます。


塾・学校の先生限定サイト

Bunri Teachers' Site へのご登録で、
全ページ版をご覧ください。



登録無料で、他にも便利な機能がたくさん！
ぜひお役立て下さい。

Bunri Teachers' Site
会員登録はこちら



※ご登録には弊社発行の招待コードが必要です。

教材サポート

単元テスト、指導用資料、
学習サポートアイテムなど
指導をサポートするコンテンツ



最新の教育情報

社会時事問題、高校入試分析、
教科書採択情報など最新の
教育に関する情報をお届け



各種教材やテストの お問い合わせ・お申込み

生徒さま一人一人に合った教材・
テスト・デジタルコンテンツを
ご提案



※Bunri Teachers' Siteは、塾・学校の先生方のための情報サイトです。

ユーザー登録していただくことで、会員限定の詳細情報をご覧ください。本サイトは一般の方のご利用をお断りしております。予めご了承ください。

お問い合わせフォーム



招待コード発行や教材の内容・ご購入方法等
お気軽にお問い合わせ下さい。