

小学実力練成

エフォート



二訂版



鎌倉時代や財政・社会保障等の問題集
小学生社会 | 小学実力練成エフォート

7 鎌倉時代(1)

1 鎌倉幕府の成立

(1) **源平の戦い**…平清盛は娘を天皇のきさきにし、生まれた子(→1)を次の天皇に立てるなど、貴族のような政治を行った。平氏の政治に不満が高まるなか、朝廷から武士たちに平氏の追討が命令されると、1180年、源頼朝は東国の武士団を率いて挙兵した。一ノ谷の戦い、屋島の戦いでやぶれた平氏は西に追われ、1185年、頼朝の弟の源義経によって壇ノ浦(山口県)の戦いでほろぼされた。

(2) 源頼朝の政治

① **守護・地頭**…1185年、源頼朝は国ごとに守護を、荘園や公領(国司が支配する土地)ごとに地頭を置くことを朝廷に認めさせた。また、対立した源義経をかくまった奥州藤原氏をほろぼし、東国を支配下に置いた。

② **鎌倉幕府の成立**…源頼朝は、三方を山に囲まれ海に面して守りのかたい鎌倉(神奈川県)に幕府を開き、以後約700年にわたって武家政治が続いた。また、頼朝は1192年には朝廷から征夷大将軍に任命された。鎌倉に幕府が置かれた時代を鎌倉時代という。

③ **鎌倉幕府のしくみ**…鎌倉には御家人の取りしまりや警察の仕事を行う侍所、一般の政治を行う政所、裁判を行う問注所を置き、地方には守護・地頭を置いて、御家人を任じた。

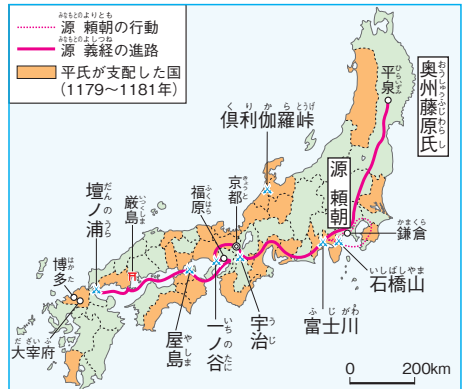
④ **御恩と奉公**…将軍と主従関係を結んだ武士を御家人とよんだ。将軍は御家人の領地を保護し、働きに応じて新しい領地をあたえた(御恩)。そのかわり御家人は、将軍に忠誠を誓い、合戦に出たり、京都や鎌倉の警備などの義務を負ったりした(奉公)。

2 北条氏の政治

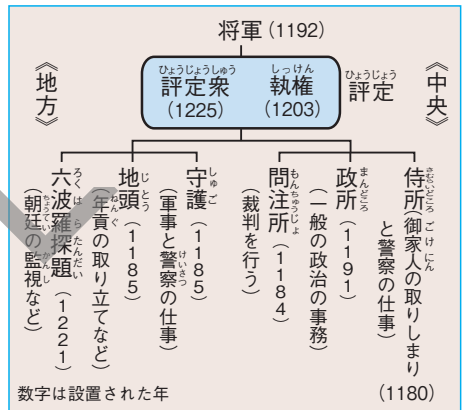
(1) **執権政治**…頼朝が死ぬと、その妻北条政子の実家である北条氏が、有力な御家人を次々とたおし、将軍の補佐役である執権という地位を独占して政治の実権をにぎった。さらに3代将軍の源実朝が暗殺されて源氏の将軍が絶えると、京都から名ばかりの将軍をむかえた。(→4)

(2) **承久の乱**…京都で院政を行っていた後鳥羽上皇が、1221年、幕府をたおして、朝廷に政権を取りもどすために、北条義時をうつ命令を全国の武士に出した。しかし、北条政子のうったえもあって、勢いのある幕府の大軍の前にやぶれ、上皇は隠岐(島根県)に流された。

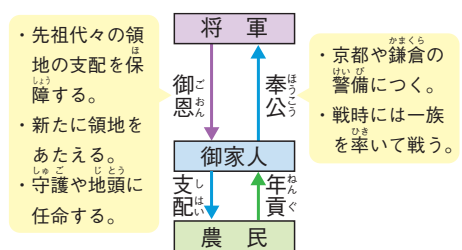
1 源平の戦い



2 鎌倉幕府のしくみ

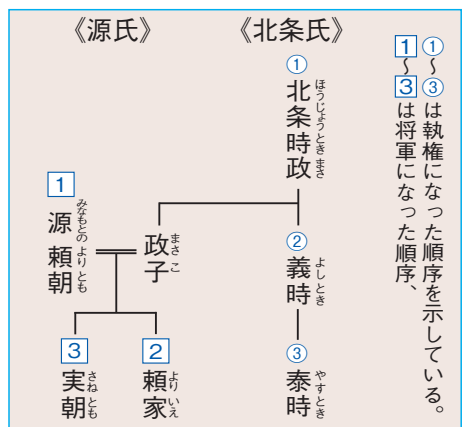


3 将軍と御家人の関係



↑このような関係を反映して、「いざ鎌倉」「一所懸命」などのことばが生まれた。

4 源氏と北条氏の系図



- (3) 全国に広がる幕府の支配…承久の乱の後、幕府は京都に六波羅探題を置いて朝廷を監視するとともに、上皇に味方した西日本の武士や公家の土地を取り上げ、新たに御家人を地頭として任命した。こうして、幕府の支配は西日本にも広がった。
- (4) 御成敗式目 (貞永式目) …1232年、執権の北条泰時は武士の社会で行われていた慣習にもとづいて、武士の最初の法である御成敗式目を制定し、裁判を公平に行うための基準を御家人たちに示した。

3・文化・産業の発達

- (1) 武士の暮らし…地頭となった武士は、荘園に板ぶきの簡単な屋敷をかまえ、農民などを使って農業を営んだ。敵から領地を守るため、ふだんから馬や弓矢の武芸をきたえていた。武士の領地は初め分割して相続され、女性にもあたえられた。
- (2) 農民の暮らし…荘園に住む農民は、荘園領主へ納める年貢のほかに、地頭に対する労役などもあり生活は苦しかった。地頭は、荘園に対する支配をしだいに強めていった。やがて農業用の用水路などの工事を農民が中心に行うようになり、集団行動を通して村の人々の結びつきが強くなっていった。
- (3) 農業…水路をひらいて田に水を引く技術が広がり、同じ田畑で米の裏作に麦をつくる二毛作が西日本で行われるようになった。牛馬が耕作に利用され、鉄製の農具が広まり、草・木を焼いた灰(草木灰)や刈敷が肥料として使われた。
- (4) 商工業…寺社の門前や交通の便利なところで、定期市が開かれるようになり、中国から輸入された銅銭が使用された。
- (5) 鎌倉文化…武士に親しみやすい力強く、写実的な文化。
- (6) 建築…中国の宋から新しい様式が伝えられ、東大寺南大門や円覚寺が作られた。南大門には運慶らの手による金剛力士像が納められた(武士にふさわしい力強い作風)。
- (7) 文学…軍記物の「平家物語」が琵琶法師によって語り広められた。藤原定家らは「新古今和歌集」を編さんした。鴨長明は「方丈記」という随筆、兼好法師は「徒然草」という随筆を書いた。
- (8) 絵画…合戦のようすや僧の伝記をえがいた絵巻物が多くつくられた。
- (9) 新しい仏教…法然・親鸞・一遍は、念仏を唱える浄土信仰の教えをさらに発展させた。師の法然の教えをさらに発展させた親鸞は、「悪人こそ救われる」と説いた(悪人正機説)。日蓮は法華経の題目を唱えれば、人も国家も救われると説いた。栄西・道元は座禅によりさとりを開こうとする禅宗を広め、幕府に保護された。

5御成敗式目

- 諸国の守護の職務は、頼朝公の時代に定められたように、京都の御所の警備と、主君にそむいた者や殺人などの犯罪人の取りしまりにかぎる。
- 女性が養子をとることは、律令では許されていないが、頼朝公の時代以来現在にいたるまで、子どものない女性が土地を養子にゆずりあたえる例は、武士の慣習として数え切れない。

6地頭の横暴をうったえる農民

領主にお納めする材木のことで、地頭が都に行くからなどといった、人夫としてこき使うので、ひまがありません。わずかに残った人を、材木を運び出しに山へ行かせたところ、地頭は「逃亡した農民の畑に麦をまけ」と追いもどすのです。「お前たちが麦をまかないと、妻・子どもを牢に入れ、耳を切り、鼻をそぎ、髪を切って尼のようにし、縄でしばって痛めつけるぞ」など、ひどく責め立てられますので、材木の納入がさらにおくれます。

↑紀伊国(和歌山県)阿氏河荘の農民たちが、地頭のきびしい支配を荘園領主にうったえたもの。

7定期市

↑鎌倉時代には月に3回行われ「三斎市」とよばれた。室町時代には月に6回行われ「六斎市」といわれるようになった。

8東大寺南大門

9鎌倉時代の仏教

| | 宗派 | 開祖 | 特徴 |
|-------|-----------|----|-------|
| 念仏の教え | 浄土宗 | 法然 | |
| | 浄土真宗(一向宗) | 親鸞 | 悪人正機説 |
| | 時宗 | 一遍 | 踊念仏 |
| | 日蓮宗(法華宗) | 日蓮 | |
| 禅宗 | 臨済宗 | 栄西 | 幕府により |
| | 曹洞宗 | 道元 | 保護 |

基本問題

1 〈年表問題〉年表中の□にあてはまる語句を答えなさい。

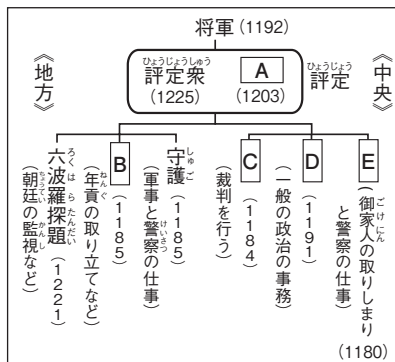
| 年代 | できごと |
|------|---|
| 1180 | 源義朝の子の□Aが伊豆で兵をあげる。 |
| 1185 | 源義経が□Bの戦いで平氏をほろぼす。 Aが国ごとに□Cを、荘園や公領に地頭を置くことを朝廷に認めさせる。 |
| 1192 | Aが征夷大將軍に任じられる。□Dが成立する。 |
| 1203 | □E氏が初めて執権の地位につく。 |
| 1219 | 源氏の將軍が3代で絶える。 |
| 1221 | □Fの乱がおこり、やぶれた後鳥羽上皇は隱岐へ流される。 朝廷を監視するため、京都に□Gが置かれる。 |
| 1232 | 最初の武家法である□H（貞永式目）が定められる。 |

- A _____
- B _____
- C _____
- D _____
- E _____
- F _____
- G _____
- H _____

平氏への反感が強まる
源平の戦い→幕府成立
鎌倉文化
平家物語 新古今和歌集 金剛力士像
承久の乱→執権政治確立
鎌倉仏教

2 〈重要語句の確認〉次の問いに答えなさい。

- (1) 源平の戦いにおいて、西へ逃れた平氏を追い、1185年、壇ノ浦の戦いで平氏をほろぼしたのはだれですか。 (1) _____
- (2) 源頼朝が朝廷に設置を認めさせた守護とは、どこを基準に置かれた役職ですか。次から1つ選びなさい。
〔国 郡 荘園 公領〕 (2) _____
- (3) 源頼朝が、対立した源義経をかくまったとしてほろぼした奥州の豪族は何氏ですか。 (3) _____
- (4) 鎌倉幕府のしくみを表した資料について、次の説明を参考に、□A～Eにあてはまる役職名を答えなさい。
A 將軍を助けて政治を行った地位
B 荘園や公領に置かれ、年貢の取り立てにあたった役職
C 鎌倉幕府で裁判を行った役職
D 鎌倉幕府で一般の政治の事務を行った役職
E 鎌倉幕府で御家人の取りしまりと警察の仕事を行った役職 (4) _____



- A _____
- B _____
- C _____
- D _____
- E _____

- (5) 將軍と主従関係を結んだ、家来の武士を何といいますか。 (5) _____
- (6) (5)の武士は、將軍に対して忠誠を誓い、いくさのときには命をかけて戦いました。これを將軍があたえる御恩に対して、何といいますか。 (6) _____
- (7) 源氏の將軍が3代で絶えると、京都の上皇が朝廷の勢力を回復するため、北条氏をうつ命令を出しました。この上皇はだれですか。 (7) _____

- (8) 上皇方の軍をやぶった幕府は、朝廷を監視するために六波羅探題を置きました。六波羅探題はどこに置かれましたか。 (8) _____
- (9) 最初の武家法（武士の社会の法律）を制定した鎌倉幕府の執権はだれですか。 (9) _____

3 〈歴史人物〉 次の人物カードの□にあてはまる語句を答えなさい。

人物①：源頼朝（1147～1199年）

平治の乱にやぶれ□A（静岡県）へ流された私は、この地で兵をあげ、のちに平氏をほろぼしました。そして、鎌倉幕府を開き、朝廷から□Bに任じられました。

人物②：源義経（1159～1189年）

私は、奥州の□C氏をたより、平泉で成長しました。源平の戦いでは壇ノ浦の戦いなどで活きましたが、兄の□Dと対立し、奥州まで追われて殺されました。

人物③：□E（1157～1225年）

頼朝の妻となった私は、頼朝が急死すると出家し、2代執権の北条義時とともに北条氏の地位の向上に努めました。□Fの乱では武士をまとめ、「尼将軍」とよばれました。

人物④：後鳥羽上皇（1180～1239年）

私は源氏の将軍が□G代で絶えたのを見て、北条氏をうつために挙兵しましたが、やぶれました。私は、藤原定家らに命じ、□H「和歌集」を編さんさせたことでも有名です。

- A _____
- B _____
- C _____
- D _____
- E _____
- F _____
- G _____
- H _____

4 〈記述問題〉 承久の乱の後、鎌倉幕府の支配する範囲はどのように変化したか、簡単に答えなさい。

5 〈文化・産業〉 次の問いに答えなさい。

- (1) 鎌倉時代に西日本に広まった、米の裏作として麦を栽培する農業を何といいますか。 (1) _____
- (2) 決まった日に寺社の門前や交通の要地で開かれるようになった、農作物や工芸品などを売り買いする場を何といいますか。 (2) _____
- (3) 鎌倉時代に農業で使われるようになった肥料は、刈敷や何ですか。 (3) _____
- (4) 琵琶法師によって各地に語り広められた、源平の戦いをえがいた軍記物を何といいますか。 (4) _____
- (5) _____ (5) _____
- (6) 鎌倉時代に再建された、東大寺南大門の両わきに置かれた、2体の力強い彫刻を何といいますか。 (6) _____
- (7) _____ (7) _____
- (8) 鴨長明が書いた随筆を何といいますか。 (8) _____
- (9) 「徒然草」を書いたのはだれですか。 (9) _____
- (10) 右の鎌倉時代の仏教をまとめた表の□にあてはまる語句を答えなさい。 (10) _____

| | | |
|----------|-----|----|
| | 宗派 | 開祖 |
| 念仏の教え | 浄土宗 | □A |
| | □B | 親鸞 |
| | 時宗 | □C |
| 日蓮宗(法華宗) | | 日蓮 |
| 禅宗 | 臨済宗 | □D |
| | □E | 道元 |

- A _____
- B _____
- C _____
- D _____
- E _____

発展問題

1 次の文章を読んで、あとの問いに答えなさい。 (東海大付浦安中)

① 鎌倉幕府は、征夷大將軍のもと中央に政治や財政を行う **A**、裁判を行う **B**、御家人をまとめる **C**などが置かれました。また地方には軍事や警察の仕事を行うもの、莊園を管理する仕事を行うものなどが置かれました。

② 源頼朝の死後、源氏の正統のあとつぎはわずかに **a 4代**でとだえました。そこで鎌倉幕府は、京都から公家の子をむかえて將軍としましたが、政治の実権は **b 執権**となった北条氏に握られました。とりわけ頼朝の妻であった女性は、1221年におこった **c 承久の乱**において鎌倉幕府軍をまとめ、**d 後鳥羽上皇**らの軍勢をやぶる原動力になるなどして尼將軍ともよばれました。

③ この時代には、だれにでも分かりやすい仏教が武士や庶民に広がりました。浄土宗は念仏を唱えればだれでも救われると説くもので、**D**が始めました。**D**の弟子の**E**は、悪人正機説を説いて浄土真宗を始めました。**F**は法華經こそ重要であり、題目を唱えることで救われると説きました。また座禅によって悟りを開こうとする禅宗では**G**が臨済宗、道元が曹洞宗を広めました。

(1) ①の文中 **A**～**C**にあてはまる語句を、次から1つずつ選びなさい。

- A [] B [] C []
- ア 問注所 イ 政所 (公文所) ウ 守護
- エ 侍所 オ 地頭

(2) ②の文の中には、1か所誤りがあります。誤っている下線部分の記号を1つ選びなさい。

[]

(3) この時代に関係の深いものを、次から1つ選びなさい。

[]

| | | | |
|---|---|---|---|
| ア | イ | ウ | エ |
| | | | |

(4) ③の文中 **D**～**G**にあてはまる語句の組み合わせとして正しいものを、次から1つ選びなさい。

[]

- | | | | | | | | | |
|---|---|----|---|----|---|----|---|----|
| ア | D | 親鸞 | E | 法然 | F | 日蓮 | G | 栄西 |
| イ | D | 親鸞 | E | 法然 | F | 栄西 | G | 日蓮 |
| ウ | D | 法然 | E | 親鸞 | F | 日蓮 | G | 栄西 |
| エ | D | 法然 | E | 親鸞 | F | 栄西 | G | 日蓮 |

2 次の①・②の資料文を読んで、あとの問いに答えなさい。 〈開智中〉

① 頼朝どのが平氏をほろぼして幕府を開いてから、その御恩は、山よりも高く、海よりも深いほどです。御恩に感じて名誉を大切にすする武士ならば、よからぬ者をうちとり、幕府を守ってくれるにちがいない。

② 諸国の[]が年貢などの税を手もとにおさえ留めること。年貢を手もとにおさえ留めたということで、荘園領主がうったえたならば、そのときは、すぐ年貢を計算して、納めた分と納めない分をはっきりさせ、幕府の裁定を受けなければならない。その結果もし不正をしていたことがはっきりすれば、おさえ留めた数量にしたがって弁償すること。(…中略…) なお、この内容に違反し、不正を行うならば、[]職を取り上げる。

- (1) ①について、鎌倉時代の初め、源頼朝の妻が武士たちにこのような言葉を説いたと伝えられています。この妻とはだれですか。 []
- (2) ①の下線部とは、実際にはどのようなことでしたか、説明しなさい。
[]
- (3) ②は御成敗式目の一部です。この法律を制定した執権はだれですか。次から1人選びなさい。
ア 北条時頼 イ 北条時政 ウ 北条義時 エ 北条泰時 []
- (4) ②中の[]にあてはまる語句を、次から1つ選びなさい。ただし、②中の2つの[]にあてはまる語句は同じです。 []
ア 国司 イ 地頭 ウ 御家人 エ 摂政

3 次の文章を読んで、あとの問いに答えなさい。 〈山脇学園中改〉

a 鎌倉時代には牛馬耕も広がり、畿内や西日本には①三毛作が普及していきました。肥料としては草木灰や、[]とって草を田に敷きこむものが利用されました。また、農村では手工業者が現れました。四日市や五日市の地名が残っていることから考えられるように、手工業者が生産した物はb 定期市が開かれて売買されました。この市を②六斎市といいます。

- (1) []にあてはまる語句を漢字で答えなさい。 []
- (2) 下線部①と②の語について、それぞれ正しければ○印を、また誤りがあれば正しい語を答えなさい。 ① [] ② []
- (3) 下線部 a の時代に編さんされたものを、次から1つ選びなさい。 []
ア 風土記 イ 古今和歌集 ウ 新古今和歌集 エ 万葉集
- (4) 右の資料は、下線部 b のようすをえがいたもの 資料
です。下線部 b では中国から輸入された貨幣が使われました。これは中国の何という王朝の貨幣ですか。次から1つ選びなさい。 []
ア 漢 イ 宋 ウ 唐 エ 隋
- (5) 右の資料の➡には、時宗を広めた僧がえがかれています。この僧の名を答えなさい。
[]

30 財政・社会保障

1 財政

(1) 財政…政府（国・地方公共団体）が税金などで収入を得て、道路、上下水道、社会保障など、民間では提供のむずかしいものやサービスに支出する活動を、財政という。

(2) 歳入…政府の1年間の収入を歳入という。歳入の中心は租税(税金)で、不足する部分は公債(国債)を発行しておぎなう。

- ① 国税と地方税…国に納める国税と、地方公共団体に納める地方税とがある。
- ② 直接税と間接税…税金を負担する人と、税金を納める人が同じである税を直接税という。これに対して、税金を負担する人と、税金を納める人が異なる税を間接税という。
- ③ 累進課税制度…所得税などでは、所得が多くなるほど、税率が高くなる累進課税という方法がとられている。
- ④ 公債(国債)…国は、租税収入が不足するとき、国民などから資金を借り入れる。

(3) 歳出…政府の1年間の支出を歳出という。

- ① 社会保障関係費…生存権（健康で文化的な最低限度の生活を営む権利）を保障するための費用。少子高齢化の進行で費用が増大。
- ② 国債費…国債の元金を返済し、利息を支払う費用。
- ③ 地方交付税交付金…地方税収入の不均衡を正すために、国が地方公共団体に交付する資金のための費用。
- ④ 公共事業関係費…道路や港湾の整備、治水などの費用。

(4) 財政政策…政府が、歳入と歳出の活動を通して、景気の安定をはかる政策を財政政策という。

(5) 景気と財政

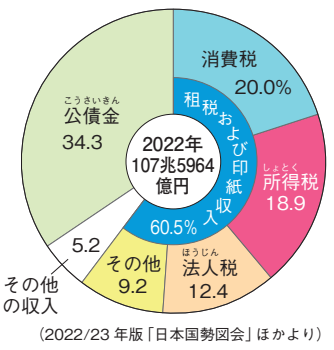
- ① 不景気（不況）のときには、政府は、減税を行ったり、公共事業への支出を増やしたりして、生産や消費の活動を活発にしようとする。
- ② 好景気（好況）が行き過ぎるときには、政府は、増税を行ったり、公共事業への支出を減らしたりして、景気をおさえようとする。

2 社会保障

(1) 社会保障制度…税金や保険料をもとにして、国が国民の生活を保護・保障する制度。

- ① 生存権…日本国憲法第25条→「すべて国民は、健康で文化的な最低限度の生活を営む権利を有する。」

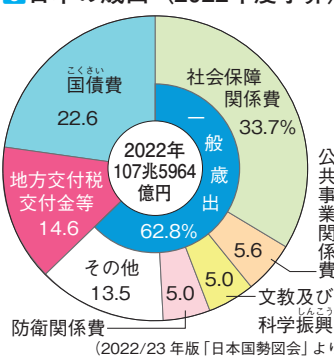
1 日本の歳入（2022年度予算）



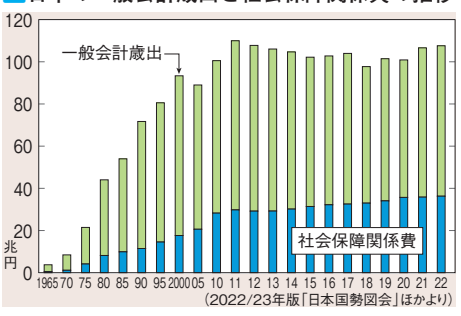
2 税金の種類

| | 直接税 | 間接税 |
|-----|----------------------|------------------------------|
| 国税 | 所得税 法人税 相続税 | 消費税 酒税 関税 |
| 地方税 | 住民税 自動車税 固定資産税 | 地方消費税 都道府県たばこ税 市町村たばこ税 |

3 日本の歳出（2022年度予算）



4 日本の一般会計歳出と社会保障関係費の推移



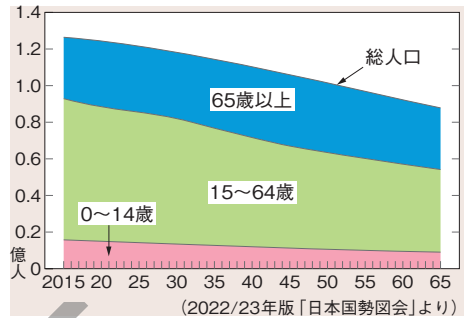
↑2000年ごろから、日本の一般会計歳出はほぼ横ばいであるが、歳出に占める社会保障関係費の割合は19.7%（2000年）→29.6%（2010）→33.7%（2022）と増えている。

- ② 厚生労働省…社会保障制度をおもに担当。
 - ③ 世界の社会保障制度…北ヨーロッパの国々では教育費や医療費が無料になるなど、社会保障が進んでいるが、税金が高い。アメリカでは社会保障制度の大部分が民間にゆだねられているため、国の介入が少ない。
- (2) 日本の社会保障制度の4つの柱
- ① 社会保険…保険料を支払い、病気や高齢になったとき給付を受ける制度。年金保険は20歳から支払う。2000年からは40歳以上の人が支払う介護保険制度を導入。
 - ② 公的扶助…生活に困っている人に、生活費や教育費などを支給する制度。
 - ③ 社会福祉…高齢者や障がい者など保護や援助を必要とする人たちの生活を支える制度。
 - ④ 公衆衛生…病気の予防や環境衛生の改善を行う制度。
- (3) 少子高齢化…少子化によって労働力人口が減少する一方、高齢化によって総人口に占める65歳以上の割合が増加し、社会保障費の1人あたりの負担は増加。介護業界や長く健康を保つための予防医療の重要性が高まる。
- (4) 暮らしやすい社会
- ① ノーマライゼーション…高齢者や障がい者が、社会の中で他の人々と同じように生活できる世の中をつくる考え方。
 - ② ユニバーサルデザイン…あらゆる人にとって使いやすいデザインや工夫をすること。デザインで情報をあらわすピクトグラムや左右どちらの手でも使えるはさみなど。
 - ③ バリアフリー…高齢者や障がい者にとってのさまたげ(バリア)を取りのぞく。公共施設にスロープやエレベーターを設けたり、道路に点字ブロックを設けたりする。
 - ④ マイナンバー…国民1人に1つあたえられる固有の番号。マイナンバーを証明するのがマイナンバーカードで、本人確認がすぐに行えることから、行政上の手続きの効率化や公共サービスの改善が期待される。
- (5) 多様化する社会…晩婚化が進み、結婚しない人や、子どもをもたない夫婦も増加。子育てと仕事を両立させるための制度の充実や問題の解決が課題になっている。増加するインバウンド(外国人観光客)や外国人労働者による日本社会との摩擦を防ぐため、外国の文化に対する理解や多言語によるコミュニケーションの充実なども急がれる。
- (6) 新たな課題…高齢化や核家族世帯の増加などから、家族の世話や介護などを日常的に行う18歳未満の子ども(ヤングケアラー)が発生。負担の軽減や支援などが求められている。

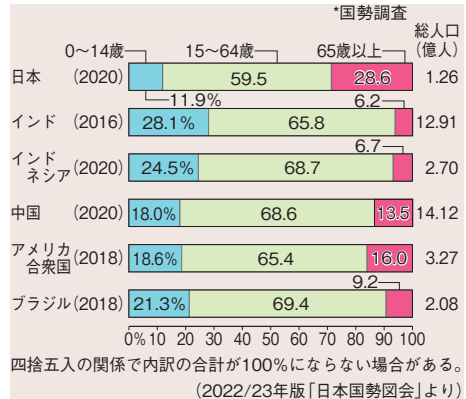
5 日本の社会保障

| | | | |
|--------|--------|----------------------------|-------|
| ① 社会保険 | ・医療保険 | ・介護保険 | ・年金保険 |
| | ・雇用保険 | ・労災保険 | |
| ② 公的扶助 | ・生活保護 | {生活扶助 住宅扶助 教育扶助 医療扶助など} | |
| ③ 社会福祉 | ・高齢者福祉 | ・障がい者福祉 | |
| | ・児童福祉 | ・母子・父子・寡婦福祉 | |
| ④ 公衆衛生 | ・感染症対策 | ・上下水道整備 | |
| | ・廃棄物処理 | ・公害対策など | |

6 日本の将来人口



7 おもな国の年齢階級別人口構成



8 暮らしやすい社会のために

↑どんな人でも乗り降りしやすいようにくふうをしている公共交通機関も増えている。

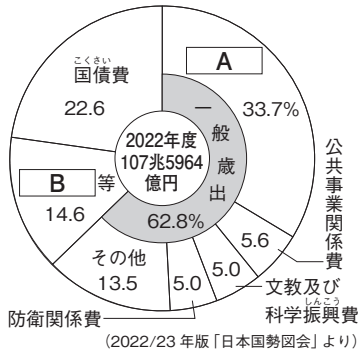
↑どんな人でも使えるように工夫されているユニバーサルデザインのはさみ。

基本問題

1 〈重要語句の確認〉 次の問いに答えなさい。また、問題文中の□□にあてはまる語句を答えなさい。

- (1) 政府の1年間の収入を何とといいますか。 (1) _____
- (2) 政府の1年間の支出を何とといいますか。 (2) _____
- (3) 税金は、国に納める□□Aと、地方公共団体に納める□□Bに分けられます。 (3) A _____ B _____
- (4) 税金は、負担する人と納める人が同じである□□A税と、負担する人と納める人が異なる□□B税に分けられます。 (4) A _____ B _____
- (5) 所得税などでは、所得が多くなるほど、税率が□□なる累進課税という方法がとられています。 (5) A _____ B _____
- (6) 国は、租税収入が不足するときには、□□を発行して、国民などからお金を借り入れます。 (6) _____
- (7) 政府は、不景気(不況)のときには、減税したり、公共事業への支出を□□たりします。 (7) _____
- (8) 歳出のうち道路や港湾の整備、治水などの費用は□□関係費です。 (8) _____
- (9) 日本国憲法第25条で「すべて国民は、健康で文化的な最低限度の生活を営む権利を有する。」と定められている権利を何とといいますか。 (9) _____
- (10) 社会保障制度をおもに担当している省を何とといいますか。 (10) _____
- (11) 日本の社会保障制度は、次の4つの柱からなっています。 (11)
- ① □□…収入が少なく、生活が困難な人に、生活費などを支給する。 (1) _____
- ② □□…加入者が保険料を積み立てておき、必要になったときに給付を受ける。 (2) _____
- ③ □□…高齢者や障がい者など、働くことが困難な人に、生活を保障し、生活の手助けをする。 (3) _____
- ④ □□…感染症の予防や上下水道の整備、公害対策などを行う。 (4) _____
- (12) 高齢者や障がい者が、社会の中で他の人々と同じような生活を送ることができる世の中をつくる考え方を何とといいますか。 (12) _____
- (13) デザインで情報をあらかずピクトグラムや左右どちらの手でも使えるはさみなど、あらゆる人にとって使いやすいデザインや工夫をすることを何とといいますか。 (13) _____
- (14) 道路に点字ブロックを設けるなど、高齢者や障がい者にとってのさまざまなバリアを取りのぞくことを何とといいますか。 (14) _____
- (15) 少子化によって労働者人口が減少する一方、高齢化によって総人口に占める65歳以上の割合が増加し、社会保障費の1人あたりの負担は□□しています。 (15) _____
- (16) 国民1人につき1つあたえられ、行政上の手続きなどに利用される番号を何とといいますか。 (16) _____

2 〈日本の歳出〉 次の図中の にあてはまる語句を右の語群から選びなさい。



語群

- 〔 社会保障関係費 地方交付税交付金 〕
〔 学校教育費 国土開発費 〕

A _____

B _____

3 〈税金の種類〉 次の表中の にあてはまる語句を右の語群から選びなさい。

| | | |
|-----|---|--|
| | <input type="text"/> A 税 | <input type="text"/> D 税 |
| 国税 | <input type="text"/> B 税 法人税 相続税 | <input type="text"/> E 税 酒税 関税 |
| 地方税 | 住民税 自動車税 <input type="text"/> C 税 | 地方 <input type="text"/> E 税 都道府県たばこ税 市町村たばこ税 |

語群

- 〔 消費 所得 〕
〔 直接 間接 〕
〔 こていしさん 固定資産 〕

A _____

B _____

C _____

D _____

E _____

4 〈日本の社会保障制度〉 次の表中の にあてはまる語句をあとの語群から選びなさい。

| | | | |
|---|---|---|--|
| <input type="text"/> A | <input type="text"/> B | <input type="text"/> C | <input type="text"/> D |
| ・医療保険 ・年金保険 ・雇用保険 ・介護保険 ・労災保険 | ・生活保護 生活扶助 住宅扶助 教育扶助 医療扶助 など | ・高齢者福祉 ・障がい者福祉 ・児童福祉 ・母子・父子・寡婦福祉 | ・感染症対策 ・上下水道整備 ・廃棄物処理 ・公害対策 など |

語群〔 公衆衛生 社会福祉 社会保険 公的扶助 〕

A _____

B _____

C _____

D _____

5 〈記述問題〉 日本の歳出に占める社会保障関係費の割合が増大した理由は何ですか。簡単に答えなさい。

発展問題

1 次の文章を読んで、あとの問いに答えなさい。

(芝浦工業大中改)

日本国憲法第30条には「国民は、法律の定めるところにより、納税の義務を負ふ」と定められています。これを「納税の義務」といい、国民の三大義務の一つとされています。

a 私たちはつねに豊かで安全な暮らしをしたいという願望をもっています。その願いを実現するために、国や地方公共団体は、税金を使っていろいろな施設をつくっています。

税金の中で最も身近なものの一つがb消費税です。お店で買い物をすると、レシートの下の方に消費税が記入されています。c 私たちがお店の人に払った消費税は、お店の人を通して国に納められます。

国は、集めた税金を使っていろいろなことを行っていますが、d近ごろでは、社会保障費の負担が急激に上がってきています。そのために足りない税金を、国は□を発行しておぎないます。また、税金は世界中の人々のためにも使われています。国は、税金を使って発展途上国にダムや道路・病院などをつくらせて援助を行っています。

地方公共団体も、集めた税金を使っていろいろな仕事を行っています。しかし、地方税では足りない分を国から援助を受けています。身近なものとしては、公立の小・中学校の授業料や義務教育で使う教科書が無料であることです。これは国の文教・科学振興費が国庫支出金として地方公共団体にまわされているからです。

このように国や地方公共団体は私たちの税金によって成り立っています。そのため、私たちは税金の使い方を知り、またよくみていかなければなりません。この役目を負っているのが国会です。国民から税金を集めるためには、内閣が1年間にどれくらいの税金が必要なのかという予算案を作り、国会に提出します。そして国会では、選挙によって選ばれた国会議員が話し合って、税金の使いみちを決めていきます。そして、内閣は、使われた税金について、国会と国民に対して知らせなければなりません。このような方法で、国の財政が国民の代表である国会によって監督されています。

- (1) 下線部 a について、憲法第25条では「すべて国民は、健康で文化的な最低限度の生活を営む権利を有する。」とありますが、それについて述べた文として誤っているものを、次から1つ選びなさい。 []
- ア 失業にそなえる雇用保険。 イ 老後のための年金保険。
- ウ 感染症の予防や治療のための対策。 エ 人々の生命や財産の保護。
- (2) 下線部 b について、消費税について述べた文として正しいものを、次から1つ選びなさい。
- ア 収入が多いほど税は高率となる。 イ すべての店は消費税をとる。 []
- ウ 70歳以上の高齢者は免除されている。 エ 収入が少ない人ほど負担が重くなる。
- (3) 下線部 c について、このように税金を払う人と納める人が異なる税金を何といいますか。 []
- (4) 下線部 d について、この原因として考えられることを、簡単に説明しなさい。 []
- (5) □にあてはまる国の借入れ金を何といいますか、漢字2字で答えなさい。 []

2 次の文章を読んで、あとの問いに答えなさい。

〈吉祥女子中・東京都市大学付属中改〉

人類は長年にわたる歴史の中で、自由と平等^{かくとく}を獲得してきました。ところが自由と平等は両立が難しく、自由を重視しすぎると平等が損^{そこ}なわれ、平等を重視しすぎると自由の制限が大きくなるという側面があります。グローバル化の進展にともなって、両者のバランスは大きく揺^ゆれています。

(1) 下線部に関連して、弱い立場の人々も平等に暮らせる社会にすることは大切なことです。高齢者や障がい者などが生活していく上で行動するときに支障がないように、障壁^{しょうへき}となるものが取り除かれた状態を何と言いますか。カタカナ6字で答えなさい。

[]

(2) 社会保障制度の1つとして国民年金制度と介護保険制度がありますが、保険料の徴収開始年齢の組み合わせとして正しいものを、次から1つ選びなさい。

[]

- ア 国民年金 20歳 介護保険 40歳
- イ 国民年金 20歳 介護保険 20歳
- ウ 国民年金 40歳 介護保険 40歳
- エ 国民年金 40歳 介護保険 20歳

3 右の資料を見て、あとの問いに答えなさい。

〈和洋国府台女子中〉

(1) 国または地方公共団体の1年間の支出のことを何といい
ますか、漢字2字で答えなさい。 []

(2) Aについて、次の問いに答えなさい。

① Aは今後も増え続けると考えられています。その理由
を簡単に答えなさい。

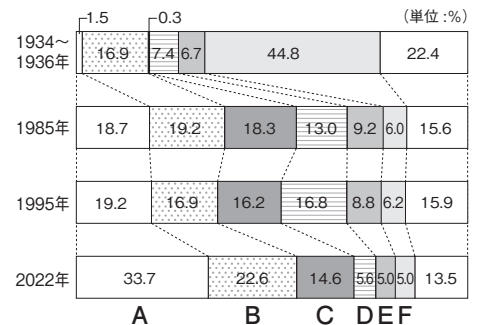
[]

② 2000年4月から、40歳以上の人々が保険料を支払い、
お年寄りなど、サービスを必要とする人々が入浴や食事
などの手助けを受けることができるようになりました。この制度を何と言いますか、漢字4字
で答えなさい。

[] 制度

(3) 次の文中の①～③は、資料中のB～Fのいずれかです。正しい組み合わせを、あとから1つ選
びなさい。 []

資料 国の支出の内訳の変化



〔日本国勢協会〕ほかより

日本の財政は非常に厳しい^{きび}状況^{じょうきょう}におかれています。国家財政の収入は、5割強が税金で、4割弱が借金でまかなわれています。現在、支出のうち、約4分の1が①借金を返すことに使われており、このままでは、②下水道や道路に使われる費用や教育に使われる費用が減り、私たちの生活に支障がでてきます。実際、下水道や道路に使われる費用は、1割もありません。また、③国防など、軍事関係に使うための費用も、支出の約半分を占めていた時期もありましたが、現在は大はばに減っています。

- ア ① C ② D ③ F イ ① D ② C ③ F
- ウ ① C ② D ③ E エ ① B ② C ③ E
- オ ① B ② D ③ F

入試特集

経済に関する問題

1 次の文章を読んで、あとの問いに答えなさい。

〈跡見学園中改〉

花子さん ねえ、お父さん。「景気が悪い」ってどういうことなの。

お父さん うーん、一言で説明するのは難しいけど……。企業の利益があがらなくて生産が伸びなやんだり、**a**消費が停滞する時期のことをいうんだ。

花子さん そんなに悪いことなの。

お父さん 企業は経営が苦しくなって、賃金を切り下げたり、従業員を削減したりする。消費者は、**b**所得が減ってしまうので、買い物がしづらくなってしまふんだ。

花子さん あっ。だから、定額給付金が支給されたんだ。

お父さん その通り。支給されたお金で多くの人に買い物をしてもらって、景気を上向かせようとしたんだ。ほかに思い当たる対策はあったかな。

花子さん そういえば、お父さん、去年の夏休みに新しい車を買ったよね。

お父さん そう。そのときは環境にやさしい車を買うと、**c**税金が安くなるしくみがとられていたんだ。だからたくさん売れたんだよ。

- (1) 下線部 **a** について、消費者の安全や安心に関わる問題に対処するために、2009年9月に発足した国の機関の名前を漢字で答えなさい。 []
- (2) 下線部 **b** について、個人の所得に対して課せられる所得税のように、所得が多いほど税率が高くなる制度を何といいますか、答えなさい。 []
- (3) 下線部 **c** について、税を負担する人と納める人が異なる税を何といいますか、漢字で答えなさい。 []
- (4) (3)の税のうち、納める先が国である税の1つを漢字で答えなさい。 []

2 次の各問いに答えなさい。

〈桜蔭中改〉

- (1) 次の会話をを読んで、年金保険や医療保険などで国民の保険料の負担が大きくなっている理由として誤っているものを、次の下線部から1つ選びなさい。 []

- A 年金保険や医療保険の財政がきびしいらしいわね。
- B ア人口に占める高齢者の割合が増えているからね。
- A 保険料の収入が減っているって聞いたけど。
- B うん。イ出生率が低く、人口が増えていない影響もあるね。ウ働く世代の人口の比率が下がっていることが1つの原因なんだ。不景気が長く続いたことも関係しているよ。
- A それだと、将来が不安になるわね。
- B エ年金では、国が負担している割合を増やしたんだ。それでも、給料が減ったり、失業してしまっている人は保険料を払うのが大変だよ。

- (2) 世界で流通している通貨の1つにアメリカのドルがあります。100円を払えば1ドルを受け取れるような状態から、80円を払えば1ドルを受け取れるようになることを「円高になる」といいます。80円を払えば1ドルを受け取れるような状態から、100円を払えば1ドルを受け取れるようになることを「円安になる」といいます。円高・円安について述べた文として誤っているものを、

- 次から1つ選びなさい。 []
- ア ドルで代金を払って原油を輸入しようとしている石油会社にとって、円安になると、ドルでの原油の価格が変わらなくても円で支払う額がより大きくなるため、国内での原油の価格が上がる可能性がある。
- イ アメリカに工場をつくらうとする日本の会社にとって、円安になると、必要な円の額が減るので、アメリカに工場をつくる会社が増える可能性がある。
- ウ 1万円のおこづかいをドルにかえると、円高になると、より多くのドルにできるため、海外旅行に行こうとする人が増える可能性がある。
- エ 円高になる前は1台の自動車売って100万円を得ていた自動車会社にとっては、円高になると、ドルでの自動車の価格を高くしなければならないため、輸出台数が減ってしまう可能性がある。


3 次の(1)~(8)には、それぞれ3つの文が書かれています。3つの文がすべて正しい場合は「3」を、2つの文が正しい場合は「2」を、1つの文が正しい場合は「1」を、また3つとも誤っている場合は「×」を書きなさい。 〈共立女子中改〉

- (1) ア 消費税の最初の税率は10%で、以後、段階的に引き下げられた。 []
 イ 消費税は、すべての国民に同じ税率で課税される。
 ウ 消費税は、負担する人と納める人が別々である。
- (2) ア 所得税は、個人の1年間の収入に対して課税されるものである。 []
 イ 所得税は、累進課税制度によって年齢が上がるにしたがって税率が高くなる。
 ウ 法人税は、企業の利益に対して課税されるものである。
- (3) ア 関税は、輸入品にかけられるものである。 []
 イ お酒には税金がかけられているが、たばこにはかけられていない。
 ウ 相続税とは、亡くなった人から財産を引きついだ場合に課税される。
- (4) ア 所得税は地方税で、負担する人と納める人が同じである。 []
 イ 住民税は国税で、負担する人と納める人が同じである。
 ウ すべての人に同じ税率で課税することは、収入の面で考えると公平な税負担につながる。
- (5) ア 国の予算は、必ず参議院から審議される。 []
 イ 1990年代以降、国の予算では税・印紙収入によるものが歳入の9割以上を占めている。
 ウ 少子高齢化の進行で、社会保障関係費は増加傾向の歳出項目となっている。
- (6) ア 戦後の国の予算において、防衛関係費の歳出に占める割合は、戦前の軍事費に比べて大幅に減っている。 []
 イ 地方公共団体の苦しい財政状況を反映して、国が、収入の少ない地方公共団体に交付するのは、国庫支出金である。
 ウ 社会保障関係費とは、国の定める社会保障制度を運用するための費用である。
- (7) ア 社会保障制度の制定は、日本国憲法第25条にもとづいている。 []
 イ 社会保障制度には、おもに社会保険・社会福祉・公的扶助・公衆衛生の4つがある。
 ウ 社会保障制度の運用に深くかかわる国の役所は、厚生労働省である。
- (8) ア 少子高齢化が進む現在、年金保険の財源確保は深刻な問題である。 []
 イ 介護保険制度とは、高齢者などが介護サービスを受けるためのしくみである。
 ウ 社会保険には健康保険や年金保険のほか、生活保護もふくまれる。

紙面サンプルはここまでです。
弊社教材サンプルをご覧ください
ありがとうございます。


塾・学校の先生限定サイト

Bunri Teachers' Site へのご登録で、
全ページ版をご覧ください。



登録無料で、他にも便利な機能がたくさん！
ぜひお役立て下さい。

Bunri Teachers' Site
会員登録はこちら



※ご登録には弊社発行の招待コードが必要です。

教材サポート

単元テスト、指導用資料、
学習サポートアイテムなど
指導をサポートするコンテンツ



最新の教育情報

社会時事問題、高校入試分析、
教科書採択情報など最新の
教育に関する情報をお届け



各種教材やテストの お問い合わせ・お申込み

生徒さま一人一人に合った教材・
テスト・デジタルコンテンツを
ご提案



※Bunri Teachers' Siteは、塾・学校の先生方のための情報サイトです。

ユーザー登録していただくことで、会員限定の詳細情報をご覧ください。本サイトは一般の方のご利用をお断りしております。予めご了承ください。

お問い合わせフォーム



招待コード発行や教材の内容・ご購入方法等
お気軽にお問い合わせ下さい。