

2025年度

受験用

社会

公立高校 入試セレクト 最新版

2024年実施問題収録

世界地理総合や高校入試過去問等の問題集  
高校入試社会 | 公立高校入試セレクト 最新版

1

# 世界地理総合

1 略地図や資料を見て、次の問いに答えなさい。

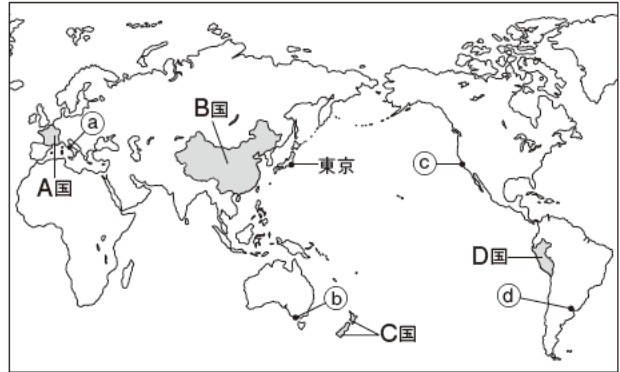
(徳島)

(1) 略地図中のA国とB国は、地球上に分布する6つの大陸のうち、面積が最大の大陸にあります。この大陸名を答えなさい。

[ ]大陸

頻出 (2) 略地図中のa~dの都市を、東京との時差が大きい順に並べたとき、最も大きい都市はどれですか、1つ選びなさい。ただし、サマータイム制度は考えないものとします。

略地図



(3) 資料は、略地図中のC国の国旗であり、次の文は、C国における移民の歴史と多文化に配慮した取り組みについて述べたものの一部です。正しい文になるように、文中の( ① )には国名を、( ② )には先住民の名称をそれぞれ答えなさい。

①[ ] ②[ ]

資料



資料からわかるように、C国は( ① )の植民地だった。そのため、主に( ① )からの移民によって国づくりが進められたが、英語と共に、( ② )とよばれる先住民の言語が公用語とされるなど、多文化に配慮した取り組みが進められている。

(4) 略地図中のD国の高地に暮らす人々の衣服の特色として最も適切なものを、次から1つ選びなさい。

- ア アザラシなどの毛皮を身につけ、厳しい寒さから身を守っている。 [ ]
- イ アルパカの毛で作った衣服を重ね着して帽子をかぶり、寒さと強い紫外線を防いでいる。
- ウ 長袖や丈の長い衣服を身につけ、日中の強い日ざしや砂あらしから身を守っている。
- エ 昼間の気温が高い日が一年中続くので、汗を吸いやすく風通しのよい衣服を身につけている。

2 右の略地図は、東京を中心にして、東京から世界各地への距離と方位が正しく描かれたものです。これを見て、次の問いに答えなさい。

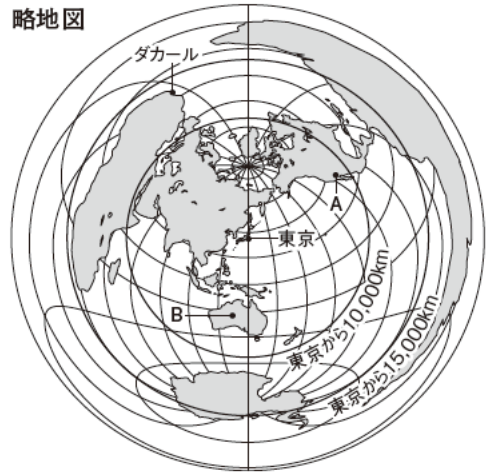
(岩手)

頻出 (1) 略地図中のダカールは、東京から見ておよそどの方位にありますか。次から1つ選びなさい。 [ ]

- ア 北東 イ 北西 ウ 南東 エ 南西

(2) 次の文は、略地図中のAの都市およびBの都市について述べたものです。文中の( X ), ( Y )にあてはまる言葉の組み合わせを、下から1つ選びなさい。 [ ]

略地図



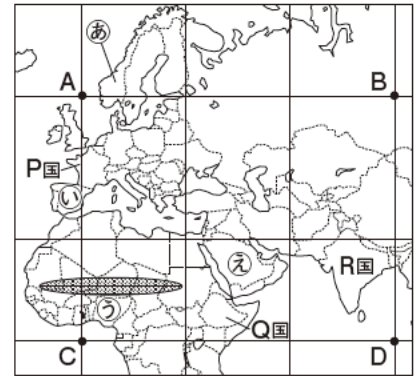
AとBのうち、東京からの距離が( X )のはBで、AとBのどちらも、気候帯は( Y )である。

- ア X-長い Y-乾燥帯      イ X-長い Y-亜寒帯(冷帯)
- ウ X-短い Y-乾燥帯      エ X-短い Y-亜寒帯(冷帯)

3 次の問いに答えなさい。

〈愛媛〉 地図

(1) 地図は、緯線と経線が直角に交わった地図であり、緯線は赤道から、経線は本初子午線から、それぞれ30度ごとにかかれています。次の問いに答えなさい。



① 地図をもとにして述べた文として最も適切なものを、次から1つ選びなさい。 [ ]

- ア AB間を結ぶ緯線の地球儀上での長さ、CD間を結ぶ緯線の地球儀上での長さを比べると、同じである。
- イ AB間を結ぶ緯線の地球儀上での長さが、地球儀上でのAB間の最短距離である。
- ウ Bは、Aから見て、真東の方向にある。
- エ P国とQ国の面積はほぼ同じに見えるが、P国とQ国の実際の面積を比べると、Q国の方が大きい。

表1

国	生産量(万t)
X	825.7
イタリア	227.1
トルコ	173.9
モロッコ	159.1
ポルトガル	137.6

(2023/24年版「世界国勢図会」より)

頻出

② 地図中のR国において、国民の約80%が信仰している宗教を、次から1つ選びなさい。 [ ]

- ア キリスト教    イ ヒンドゥー教
- ウ イスラム教    エ 仏教

③ 表1は、2021年における世界の、オリーブの生産量の多い国を上位5位まで表したものです。表1中のXにあてはまる国として適切なものを、地図中の㉑～㉓から1つ選びなさい。また、その国名を答えなさい。 記号[ ] 国名[ ]

④ 地図中の㉔印で示した区域は、サハラ砂漠の南の縁に位置し、[ Y ]とよばれています。[ Y ]では、人口増加による、たきぎやまきの採りすぎ、放牧する家畜の増加などにより、植物が育たないやせた土地になる砂漠化が進んでいます。Yにあてはまる最も適切な言葉を答えなさい。

[ ] 表2

(2) 表2は、熱帯の気候についてまとめたものです。表2中の[ Z ]に適切な言葉を書き入れて表を完成させなさい。ただし、Zには、「まばら」「草原」の語句を用いること。

気候	気候の特徴	植物の広がり様子
熱帯雨林気候	一年を通して気温が高く、毎日のように雨が降る。	うっそうとした森林が広がっている。
サバナ気候	一年を通して気温が高く、雨季と乾季がはっきり分かれています。	[ Z ]が広がっている。

4 次の文章は、ひとしさんが、地図中の東南アジアについてまとめたレポートの一部です。文章中の[ I ]、[ II ]にあてはまる語句の組み合わせを、下から1つ選びなさい。 [ ]〈千葉追検査〉

地図



注：島等は省略したものもある。また、国境に一部未確定部分がある。

東南アジアは、[ I ]の影響で降水量が多く、年間を通して気温が高いことから、稲作が盛んです。同じ土地で年に2回同じ作物を栽培する[ II ]ができる地域では、一年中稲作が行われています。

- ア I - 偏西風    II - 二期作                      イ I - 季節風(モンスーン)    II - 二期作
- ウ I - 偏西風    II - 二毛作                      エ I - 季節風(モンスーン)    II - 二毛作



5 あるクラスで、世界の諸地域について学んだことをもとにして学習課題を設定し、表1にまとめました。表1を見て、下の問いに答えなさい。 (島根)

表1

	アジア州	南アメリカ州	ヨーロッパ州	アフリカ州
学んだこと	多様な気候が見られる。	コーヒー豆やさとうきびの生産が盛んである。	EU加盟国は増加している。	紛争や食料不足、環境問題などの課題がある。
学習課題	気候は、そこで暮らす人々にどのような影響を与えているか。	a 農地の開発は、地域にどのような影響を与えているか。	b EU加盟国の拡大によって、どのような問題が生じているか。	c 紛争の背景や原因は何か。

(1) グラフ、表2中の

ア～エは、表1中の各州に位置するインド、チリ、イギリス、南アフリカ共和国のいずれかです。インドにあてはまるもの

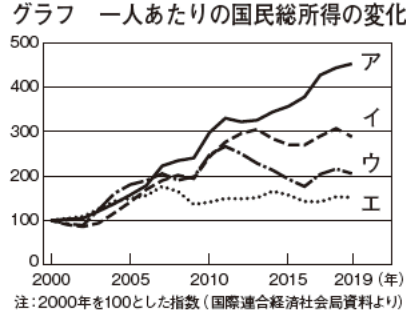


表2 輸出品上位3品目

	1位	2位	3位
ア	石油製品	機械類	ダイヤモンド
イ	銅鉱	銅	野菜・果実
ウ	自動車	白金族	機械類
エ	機械類	自動車	医薬品

注：白金族とはプラチナなどのこと。(2019年)(2021/22年版「世界国勢図会」ほかより)

を、ア～エから1つ選びなさい。ただし、グラフ中のア～エと表2中のア～エは、それぞれ同じ国を表しています。 [ ]

(2) 下線部aに関連して、多くの労働者を雇って輸出向けの作物を大量に生産する、主に熱帯に見られる大規模な農園を何といいますか。カタカナで答えなさい。 [ ]

頻出

(3) 下線部bに関連して、EUは加盟国の拡大によってEU域内の経済格差が大きくなり、共通政策をとりにくくなっています。図1、図2から読み取れる傾向について述べた次の文中の [ A ]、[ B ] にあてはまる語句の組み合わせを、下から1つ選びなさい。 [ ]

図1 EU加盟国の拡大

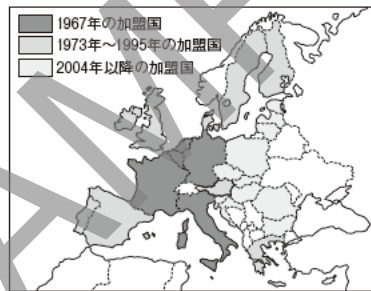
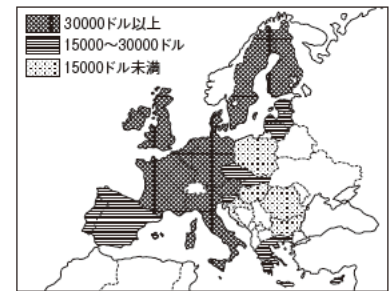


図2 EU加盟国の一人あたりの国民総所得



加盟時期が遅い国は、一人あたりの国民総所得が [ A ] 傾向にあり、そのような国は [ B ] に多く見られる。

- ア A-低い B-西ヨーロッパ      イ A-低い B-東ヨーロッパ  
ウ A-高い B-西ヨーロッパ      エ A-高い B-東ヨーロッパ

難

(4) 下線部cに関連して、図3に示すナイジェリアは、かつてこの国を植民地として支配していたイギリスの言語を公用語としています。ナイジェリアが公用語を設定している理由を、表3を参考にして、40字以内で答えなさい。ただし、「共通」の語句を用いること。

図3 ナイジェリアの位置



表3 ナイジェリアの民族・言語

民族	ヨルバ人、ハウサ人、イボ人など250以上の民族
言語	英語(公用語)、ヨルバ語、ハウサ語、イボ語など500以上の言語

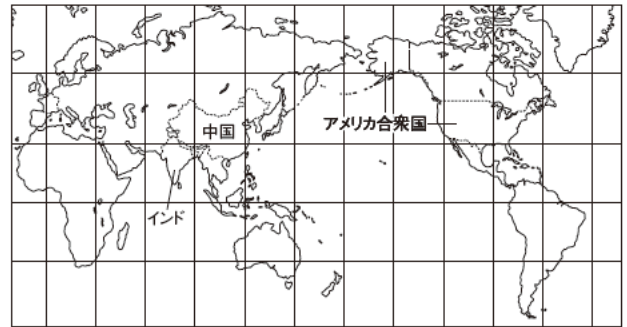
(2023年版「データブック オブ・ザ・ワールド」より)

[ ]

6 右の略地図を見て、次の問いに答えなさい。

〈鹿児島〉

略地図



(1) 資料1の [ ] は、略地図中のアメリカ合衆国における州別に見た人口構成について、ある人種または民族が20%以上の州を示したものです。その人種または民族を説明したものを、次から1つ選びなさい。 [ ]

- ア 中国などから移住してきたアジア系の人々
- イ かつて農園の労働力となったアフリカ系の人々
- ウ メキシコなどから移住してきたスペイン語を話す人々
- エ ネイティブアメリカンとよばれる先住の人々

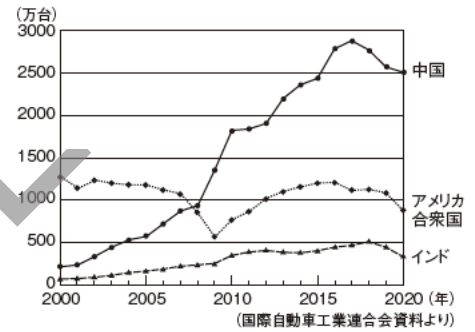
資料1



注：アラスカ、ハワイは除く  
(2023年版「データブック オブ・ザ・ワールド」より)

(2) 資料2は、2000年から2020年までの期間における、略地図中の中国、アメリカ合衆国、インドの自動車生産台数の推移を示したものです。資料2から読み取れることとして最も適切なものを、次から1つ選びなさい。 [ ]

資料2



- ア 3つの国の生産台数は、どの国も前年の生産台数を上回っている。
- イ 中国の生産台数は、2008年以降、アメリカ合衆国の生産台数を上回っている。
- ウ この期間において、アメリカ合衆国とインドの生産台数は、2009年に最も落ち込んでいる。
- エ 2005年の生産台数は、アメリカ合衆国がインドの約2倍、中国がインドの約6倍である。

7 Yさんは、アメリカ合衆国と中国が世界の産業や貿易で重要な地位を占めていることに興味を持ち、この2か国を中心に産業の発達と移り変わりについて調べました。これについて、次の問いに答えなさい。

〈山口〉

頻出

(1) アメリカ合衆国で、1970年代以降に先端技術産業や航空宇宙産業などが発達した、北緯37度以南の温暖な地域を何といいますか。 [ ]

(2) 次のP、Qは、2000年代以降に見られるようになった工場の移転について述べたものです。P、Qに共通して見られる、工場が移転した理由を簡単に答えなさい。

P 東アジアから東南アジアや南アジアに衣類の工場が移転した。

Q 西ヨーロッパから東ヨーロッパに自動車の工場が移転した。

[ ]

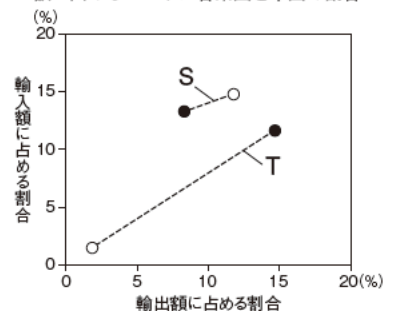
新傾向

(3) Yさんは、アメリカ合衆国と中国の輸出入額の変化について調べ、図を作成しました。図中のS、Tはアメリカ合衆国または中国のいずれかを、○、●は1990年または2020年のいずれかを示しています。

Sと●が示すものの組み合わせを、次から1つ選びなさい。 [ ]

- ア S - アメリカ合衆国 ● - 1990年
- イ S - アメリカ合衆国 ● - 2020年
- ウ S - 中国 ● - 1990年
- エ S - 中国 ● - 2020年

図 1990年と2020年における世界の輸出入額に占めるアメリカ合衆国と中国の割合




注：図中の—は、S、Tそれぞれの1990年と2020年の値をつなぐものである。  
(2023年版「データブック オブ・ザ・ワールド」より)

紙面サンプルはここまでです。  
弊社教材サンプルをご覧いただき  
ありがとうございます。


塾・学校の先生限定サイト

Bunri Teachers' Site へのご登録で、  
全ページ版をご覧いただけます。



登録無料で、他にも便利な機能がたくさん！  
ぜひお役立て下さい。

Bunri Teachers' Site  
会員登録はこちら



※ご登録には弊社発行の招待コードが必要です。

### 教材サポート

単元テスト、指導用資料、  
学習サポートアイテムなど  
指導をサポートするコンテンツ



### 最新の教育情報

社会時事問題、高校入試分析、  
教科書採択情報など最新の  
教育に関する情報をお届け



### 各種教材やテストの お問い合わせ・お申込み

生徒さま一人一人に合った教材・  
テスト・デジタルコンテンツを  
ご提案



※Bunri Teachers' Siteは、塾・学校の先生方のための情報サイトです。

ユーザー登録していただくことで、会員限定の詳細情報をご覧いただくことができます。  
本サイトは一般の方のご利用をお断りしております。予めご了承ください。

お問い合わせフォーム



招待コード発行や教材の内容・ご購入方法等  
お気軽にお問い合わせ下さい。