

中学

# WinPass

社会 歴史

人類誕生と古代文明や三大宗教等の問題集 中学社会 | 中学WinPass

# 1 人類誕生と古代文明

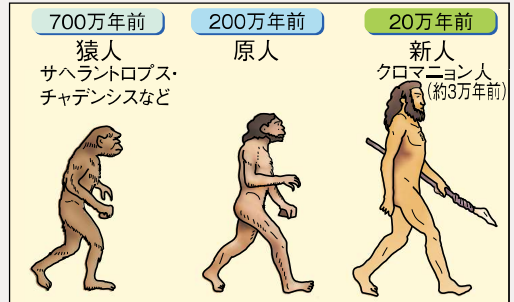
## 1 人類の出現と広がり

- (1) 人類の進化 → ①
- ① **猿人**…約700万年前アフリカに現れた最初の人類。後ろあしで立って歩く直立二足歩行を始める。前あし(手)で道具を使うことで知能が発達した。
  - ② **原人**…約200万年前に現れる。火や言葉を使う。
  - ③ **新人(ホモ・サピエンス)**…約20万年前に現れた、現在の新人のクロマニオン人は洞窟に壁画をえがいた(フランスのラスコー、スペインのアルタミラ) 人類の直接の祖先。アフリカから世界各地に広がる。
- (2) **旧石器時代**…約250万年前から氷河時代に入り、氷期と間氷期がくり返された。**打製石器**を使って大型動物の狩りを行い、**採集**や**漁**をしながら移動して生活する。 → ②
- (3) **新石器時代**…約1万年前、氷期が終わって温暖になると、大型動物が減る。すばやい小型動物を狩るために弓矢を使用する。
- ① **農耕・牧畜**…**麦・粟・稲**を栽培し、**羊・ヤギ・牛**を飼う。
  - ② **道具**…**土器**を発明して食物を煮炊きする。**磨製石器**。 → ③

## 2 古代文明

- (1) **文明の発生**…**農耕**や**牧畜**が発達して定住する。集団を指揮する**支配者(王や貴族)**が現れ、**支配される農民や奴隷**と**区別**されて**都市**や**国**が成立する。**青銅器**や**鉄器**、**文字**が発明される。
- (2) **各地の文明**…アフリカやアジアなどの、温暖な気候で農耕に適した大河の流域で文明がおこる。 → ④
- ① **エジプト文明**…ナイル川流域。紀元前3000年ごろ、各地の小国が統一されて、大きな国家が成立する。
    - **特色**…国王は神の子としてあがめられ、**巨大な神殿**や**ピラミッド**を築かせる。天文学が発達、**太陽暦**、**象形文字**。
  - ② **メソポタミア文明**…**ティグリス川・ユーフラテス川**流域。紀元前3000年ごろ、**神殿**を中心にした**都市国家**が発生。紀元前18世紀ごろには**ハンムラビ王**が**ハンムラビ法典**をつくる。
    - **特色**…**太陰暦**、**くさび形文字**。1週間7曜制。60進法。
    - **オリент**…エジプトとメソポタミアをふくむ地域。「**太陽の昇る土地**」。象形文字とくさび形文字から**アルファベットの**もとがつくられる。紀元前1000年には**鉄器**を使用。
  - ③ **インダス文明**…**インダス川**流域。紀元前2500年ごろ、**インド**で**モヘンジョ・ダロ**などの**都市**が建設される。紀元前1500年ごろ、**アーリヤ人**が侵入して**神官(バラモン)**を頂点とした**身分制度**を持つ国々がつくられる。
    - **特色**…**青銅器**、**インダス文字**。

## ① 人類の進化

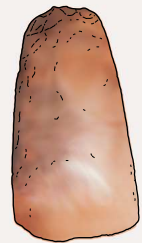


脳容積は、猿人が400~600cm<sup>3</sup>、原人が800~1300cm<sup>3</sup>、新人が1400~1800cm<sup>3</sup>と次第に増えていった。

## ② 打製石器

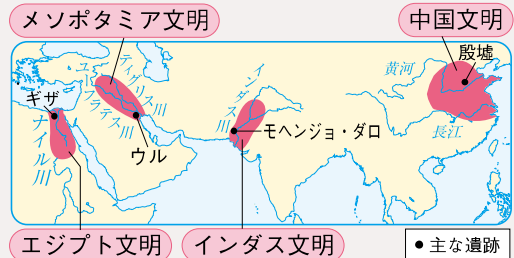


## ③ 磨製石器



石を打ち欠いてつくら 表面をみがいてつくれ、するどい刃を持つ。れる。

## ④ 古代文明

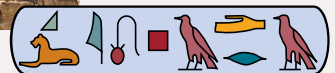


### エジプト文明



ギザのピラミッドとスフィンクス

象形文字



### メソポタミア文明



ウルの子ググラト  
ジグuratは、神殿をまつための階段状の塔。  
くさび形文字



### インダス文明



モヘンジョ・ダロ  
れんがつくり。上下水道や  
公衆浴場などの施設。

インダス文字



(3) **中国文明**…今から1万年ほど前に、**黄河**の中・下流域では粟、**長江**の下流域で稲が栽培され、農耕文明がおこる。

- ① **殷** (商) …紀元前16世紀ごろ、黄河流域で栄えた国。うらないによる政治や祭り。青銅器、**甲骨文字**の使用。→ 5
- ② **周**…紀元前11世紀に殷をほろぼす。
- ③ **春秋・戦国時代**…紀元前8世紀に周がおとろえ、国々が争う戦乱の時代となる。鉄製の兵器や農具が広まる。紀元前6世紀ごろ、**孔子**が**儒学** (**儒教**) を説く。
- ④ **秦**…紀元前3世紀、中国を統一。**始皇帝**は、貨幣や文字、ものさしをそろえ、**万里の長城**や**兵馬俑坑**を築く。→ 6 7
- ⑤ **漢** (前漢) …秦の滅亡後に中国を統一。儒教を国の教えとする。領土を拡大し、紀元前2世紀の武帝のとき、**朝鮮半島**北部から中央アジアまでを支配。**シルクロード** (**絹の道**) で西方との交通路が開かれる。周辺諸国には、中国に貢ぎ物をわたす**朝貢**を要求。歴史書の作成、紙の発明。→ 8

(4) **朝鮮半島**…紀元前後、半島北部に**高句麗**が成立。

### 3 ギリシャ・ローマの文明

(1) **ギリシャの都市国家**…紀元前8世紀ごろから、ギリシャでは**ポリス**とよばれる**都市国家**がつくられる。

- ① **政治**…アテネでは、成人男子の市民による**民主政** (アテネやスパルタ 民会 (ポリスの市民集会) 中心) が行われる。
- ② **ギリシャ文明**…理想の社会や人間像を追求、哲学や芸術が発展。ギリシャ神話。パルテノン神殿。
- ③ **ヘレニズム**…紀元前4世紀、**アレクサンドロス大王**が東方に遠征し、ギリシャとオリエントの文化が融合する。

(2) **ローマ帝国**…紀元前6世紀に共和政、紀元前1世紀に**帝政**。ラテン人が建国。広い領土を支配するための実用的な文化→法律・暦。道路・水道・浴場・闘技場 (コロッセオ)。4世紀に東西に分裂。→ 9  
西ローマ帝国は5世紀に滅亡、東ローマ帝国は15世紀まで続く

### 4 三大宗教

(1) **宗教のおこり**…自然の働きや死後の世界など人間の力をこえたものへの畏敬から、神や宗教が生まれる。

(2) **三大宗教**…国家や民族をこえて広まる。→ 10

- ① **仏教**…紀元前6世紀ごろ、インドで**シャカ** (**釈迦**) が開く。東南アジアや中国、日本へ伝わり、独自の教えが発達する。インドでは**ヒンドゥー教**が広まり、**仏教**は衰退。
- ② **キリスト教**…ユダヤ教から発展。紀元前後にパレスチナで生まれた**イエス**が開く。4世紀末に、ローマ帝国の国教。
- ③ **イスラム教**…アラビア半島に生まれた**ムハンマド**が開く。聖地メッカ。唯一神**アラー** (アッラー) を信じ、偶像崇拝を禁じる。8世紀半ばには、北アフリカから西アジアへ広まる。

### 5 甲骨文字が刻まれた牛の骨




亀の甲や牛の骨を火であぶり、できたひび割れでうらない、結果を刻んだ。漢字の起源となる。

甲骨文字




### 6 万里の長城



北方の遊牧民族の侵入を防ぐために修築。

### 7 兵馬俑坑



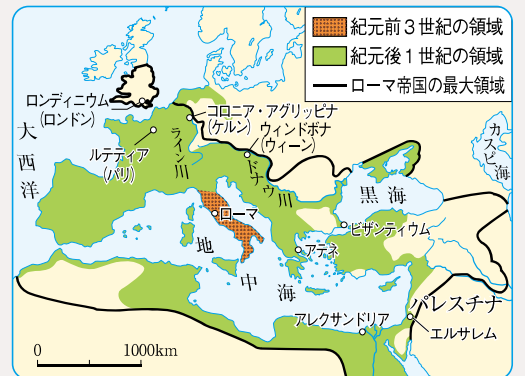
兵士や馬の焼き物が並べられている。

### 8 紀元前2世紀の世界



中国の絹(シルク)が西方へ運ばれたことからシルクロードとよばれた。西方からは馬やぶどう、インドでおこった**仏教**が中国に伝えられた。

### 9 古代ローマの支配領地の拡大



首都ローマを中心に地中海一帯を支配。支配地には道路・水道を整備した。

### 10 三大宗教の教え

	教え
仏教	修行を積み、苦しみから救われ心の安らぎを得られる。
キリスト教	人間は罪を背負っているが、神の愛によって救われる。
イスラム教	唯一神に絶対的に従い、聖典「コーラン」が法の役割。

キリスト教はヨーロッパで広く信仰される。



## 確 認 問 題

### 1 人類の出現と広がり

- (1) 約20万年前に現れた現在の人類の直接の祖先で、ホモ・サピエンスとよばれる人類を何というか。
- (2) 石を打ち欠いてつくられた石器を何というか。
- (3) (2)の石器を使い、狩りや採集を行っていた時代を何時代というか。
- (4) 約1万年前、農耕や牧畜が始まったことで、食物を煮炊きするために粘土を焼いてつくられたものを何というか。
- (5) 表面をみがいてつくられた石器を何というか。
- (6) (5)の石器が使われた時代を何時代というか。

### 2 古代文明

- (1) 銅とすずを混ぜてつくられ、祭りや戦いに用いられた金属器を何というか。
- (2) エジプト文明は、何という川の流域でおこったか。
- (3) エジプト文明で、王の墓としてつくられた建造物を何というか。
- (4) エジプト文明でつくられた、太陽を基準とした暦を何というか。
- (5) メソポタミア文明は、ティグリス川と何という川の流域でおこったか。
- (6) 紀元前18世紀ごろ、メソポタミアを統一したバビロニアの王がつくった、厳しい復讐のきまりを定めた法律を何というか。
- (7) メソポタミア文明でつくられた、月の満ち欠けを基準とした暦を何というか。
- (8) ヨーロッパから見て東にあたり、「太陽の昇る土地」を意味する言葉でよばれた、エジプトとメソポタミアをふくむ地域を何というか。
- (9) モヘンジョ・ダロが見られる古代文明は、何という川の流域でおこったか。
- (10) 紀元前16世紀ごろにおこった殷は、何という川の流域で栄えたか。
- (11) 春秋・戦国時代に儒教を説いた人物はだれか。
- (12) 中国を初めて統一した秦の王は、何とよばれているか。
- (13) 漢(前漢)の周辺国が漢に貢ぎ物をわたして忠誠を誓ったことを何というか。
- (14) 紀元前後、朝鮮半島北部を統一しておこった国を何というか。

### 3 ギリシャ・ローマの文明

- (1) ギリシャ人によってつくられた都市国家をカタカナで何というか。
- (2) アレクサンドロス大王の遠征によってギリシャとオリエントの文化が結びついて生まれた文化を何というか。
- (3) イタリア半島にあった都市国家が、紀元前1世紀に地中海沿岸を統一して帝政となった国を何というか。

### 4 三大宗教

- (1) インドでシャカによって開かれた宗教を何というか。
- (2) その後のインドで(1)に代わってさかんになった多神教を何というか。
- (3) パレスチナでイエスが説いた教えは、後に何という宗教になったか。
- (4) ユダヤ教・(3)の宗教・イスラム教の3つの宗教の聖地となっている都市はどこか。

# ビジュアルチェック

●  にあてはまる語句を答えなさい。

## 1 時代の流れをつかもう

年代	700 万年前	200 万年前	20 万年前	1万 年前	紀元前 3000年	紀元前 16世紀	紀元前 8世紀	紀元前 6世紀	紀元前 334	紀元前 221	紀元前 27	紀元前 4ごろ	395	610					
できごと	A がアフリカに現れる	B が現れる	新人が現れる	C 時代が始まる↓磨製石器	エジプト文明がおこる	メソポタミア文明がおこる	中国の黄河流域で D がおこる	ギリシヤで都市国家 E が誕生	シャカが仏教を説く	中国で孔子が F を説く	G 大王が東方遠征を開始する	H の始皇帝が中国を統一する	地中海沿岸に I 帝国が成立する	I 帝国が東西に分裂する	ムハンマドが J 教を開く				
朝鮮													高句麗	百濟	新羅				
中国													D	周	春秋・戦国	H	前漢	(略)	隋

- A
- B
- C
- D
- E
- F
- G
- H
- I
- J

## 2 古代文明

ウルのジググラト

ギザのピラミッド

ナイル川

テグリス川

ユーフラテス川

黄河

長江

殷墟

●主な遺跡

**A** 文明

太陽暦、ピラミッド、

**B** 文字

**C** 文明

太陰暦、ジググラト、

**D** 文字

**E** 文明

**F** の都市遺跡

…道路や水道、れんがづくり

**G** 文明

黄河と長江で農耕文明

殷(商)…殷墟

**H** 文字

- A
- B
- C
- D
- E
- F
- G
- H

## 3 紀元前2世紀の世界

匈奴

敦煌

洛陽

長安(西安)

秦の後に中国を統一

シリア王国

バルティア王国

エジプト王国

2000km

**A** …秦の始皇帝が遊牧民族の侵入を防ぐために築いた

**C** (絹の道)…西方と中国を結ぶ交通路

西方 ← 絹織物 → 中国

馬・ぶどう ↑

インドでおこった宗教の **D**

- A
- B
- C
- D

## 4 三大宗教

	開祖	開祖の人生	教え	宗教の広がり
仏教	A	紀元前6世紀ごろのインドに生まれる。	人間は平等。修行によりさとりを開けば、苦しみから救われる。	インドで栄えた後、東南アジア・中国・日本へ伝わる。
キリスト教	B	紀元前後のパレスチナ地方に生まれる。	神の前ではみな平等。だれでも神の愛によって救われる。「聖書(新約聖書)」	4世紀末にローマ帝国の国教。ヨーロッパに広がる。
イスラム教	C	6世紀のアラビア半島に生まれる。	唯一神には絶対的に従う。偶像崇拜を禁止。聖典「 <b>D</b> 」	アラビア半島から西アジア、北アフリカに広がる。

- A
- B
- C
- D





# 歴史思考力問題 3

得点

/100点

1 〈近・現代の政治〉右の年表を見て、次の問いに答えなさい。

- (1) [ ]に共通してあてはまる語句を答えなさい。
- (2) aの原敬が党首であった政党名を答えなさい。
- (3) Xの時期、民主主義・自由主義的な風潮が高まったことを何というか。
- (4) bの法によって、選挙権が認められる条件からどのような制限がなくなったか。次から1つ選びなさい。  
ア 納税額    イ 性別  
ウ 年齢
- (5) bと同時に制定され、共産主義を取りしまった法律名を答えなさい。

年代	主なできごと
1912	第一次[ ]運動がおこる
1918	原敬が党内閣を組織する…………… a
	↑ ア ↓
1924	第二次[ ]運動がおこる
1925	普通選挙法が成立する…………… b
1932	五・一五事件…………… c
1936	二・二六事件…………… d
	↑ イ ↓
1940	政党が解散し大政翼賛会に合流
1946	日本国憲法が公布される…………… e
	↑ ウ ↓
1955	55年体制ができる
1989	新しい税が導入される…………… f
1993	55年体制の終わり
	↑ エ ↓
2009	民主党中心の連立内閣ができる

記述(6) cが日本の政治にあたえた影響を簡単に答えなさい。

- (7) dについて述べた次の文中の( )にあてはまる語句の組み合わせを、下から1つ選びなさい。  
「( ① )の青年将校らが軍事政権の樹立をめざし、大臣を殺傷して東京の中心部を占拠した。この事件の後、( ② )主義的な風潮が高まっていった。」  
ア ①-海軍 ②-社会    イ ①-海軍 ②-軍国  
ウ ①-陸軍 ②-社会    エ ①-陸軍 ②-軍国

- (8) eの前後に行われた改革にあてはまらないものを次から1つ選びなさい。  
ア 三井、三菱、住友、安田などの財閥が解体される。  
イ 労働条件の改善などを求めていた労働組合が解散させられる。  
ウ 自作農を増やすために、農地改革が行われる。  
エ 教育基本法が出され、男女共学や9年の義務教育が定められる。

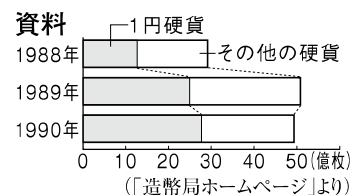
思記述(9) fの年、硬貨の製造枚数が増加した。その理由を、新しい税の名称をはっきりさせて、資料から読み取れることを関連づけて、簡単に答えなさい。

- (10) 次のできごとがおこった時期を、年表中のア～エからそれぞれ選びなさい。

- |                 |                 |
|-----------------|-----------------|
| ① 自衛隊が設置される。    | ② 全国水平社が結成される。  |
| ③ 国家総動員法が制定される。 | ④ 阪神・淡路大震災がおこる。 |

1 (2点×13=26点)


(1)	
(2)	
(3)	
(4)	
(5)	
(6)	
(7)	
(8)	
(9)	
⑩	①                      ②
	③                      ④



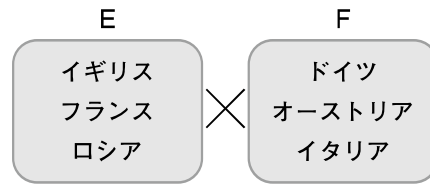


2 〈近・現代の外交〉 次の資料を見て、あとの問いに答えなさい。

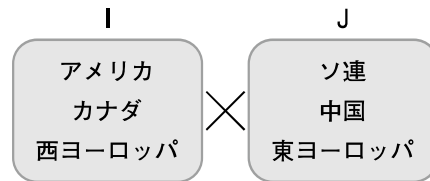
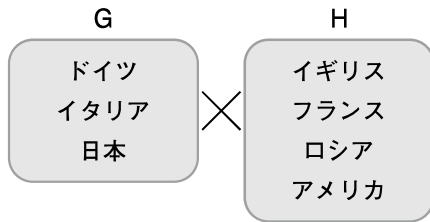
資料1 日清戦争前の国際関係



資料2 第一次世界大戦前後の国際関係



資料3 第二次世界大戦前後の国際関係 資料4 第二次世界大戦後の国際関係



(1) 資料1中のAとBの戦争の講和条約でAが獲得したものを、次からすべて選びなさい。

- ア 台湾    イ 香港    ウ 南樺太    エ 遼東半島    オ 賠償金

思(2) 資料1中のCは朝鮮を示している。韓国や朝鮮に関する次のできごとを、年代の古い順に並べなさい。

- ア 江華島事件がおこる。    イ 征韓論が唱えられる。  
ウ 朝鮮総督府が置かれる。    エ 日朝修好条規が結ばれる。

(3) 1904年から始まった資料1中のAとDの戦争中の様子として誤っているものを、次から1つ選びなさい。

- ア 日本軍は旅順攻囲戦や日本海海戦で勝利を収めた。  
イ ロシアでは、皇帝の専制に対し革命運動がおこった。  
ウ 幸徳秋水や内村鑑三が国民に戦争への協力をよびかけた。

(4) 資料2中のE、Fの同盟関係をそれぞれ何というか。

(5) 日本は資料2中のE、Fのどちらの陣営に加わったか。

(6) 第一次世界大戦のひきがねとなったできごとを、次から1つ選びなさい。

- ア ドイツがポーランドに侵攻した。    イ 満州で南満州鉄道の線路が爆破された。  
ウ イラクがクウェートに侵攻した。    エ オーストリア皇位継承者夫妻がサラエボで暗殺された。

(7) 資料3中のG、Hの陣営はそれぞれ何とよばれたか。

(8) 第二次世界大戦のひきがねとなったできごとを、(6)のア～エから1つ選びなさい。

(9) 資料4中のI、Jの陣営がかかげた経済体制を、次からそれぞれ選びなさい。

- ア 共産主義    イ 全体主義    ウ 資本主義    エ 三民主義

(10) I、J両陣営による戦火を交えない厳しい対立を何というか。

思(11) (10)に関する次のできごとを、年代の古い順に並べなさい。

- ア 朝鮮戦争がおこった。    イ 中華人民共和国が成立した。  
ウ キューバ危機がおこった。    エ ベルリンの壁が取り壊された。  
オ アメリカがベトナムから軍隊を引きあげた。

2 (2点×11=22点)

(1)	
(2)	→ → →
(3)	
(4)	E
	F
(5)	
(6)	
(7)	G
	H
(8)	
(9)	I
	J
(10)	
(11)	→ →
	→ →

(1)、(2)、(4)、(7)、(9)、(11)完答

# 歴史総合問題

得点

/100点

**1** 〈年表問題〉右の年表は、ある世紀における世界の様子である。これを見て、次の問いに答えなさい。

(1) 次のできごとがおこった時期を、年表中のA～Iからそれぞれ選びなさい。

- ① 徳川家康によって江戸に幕府が開かれた。
- ② 倭の奴国の王が中国に使いを送り、金印を授けられた。
- ③ 御家人を救うために、永仁の徳政令が出された。
- ④ 原敬が日本で最初の本格的な政党内閣を組織した。

(2) aの人物がおこした宗教について、次の問いに答えなさい。

- ① この宗教と関係のない人物を、次から1人選びなさい。  
ア 親鸞    イ 鑑真    ウ 道元    エ 孔子
- ② この宗教は1世紀ごろ中国に伝わったが、そのとき經由した東西交通路を何というか。

(3) bについて、次の問いに答えなさい。

- ① この宗教をおこした人物はだれか。
- ② この宗教を信仰するアラブ諸国は、第二次世界大戦後、パレスチナをめぐるイスラエルとの間に数次にわたる戦争を経験している。この戦争を何というか。

**思**(4) cについて、次の中国の王朝を、唐を中心に年代の古い順に並べなさい。

- ア 清    イ 明    ウ 魏    エ 隋

(5) dについて、次の問いに答えなさい。

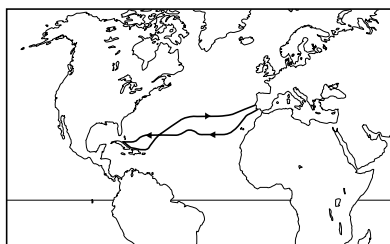
- ① モンゴル民族を統一した人物はだれか。
- ② この後モンゴル帝国は日本に攻めてきたが、このできごとと、そのときの日本の指導者の組み合わせを次から1つ選びなさい。

- ア 元寇－足利義満    イ 倭寇－足利義満
- ウ 元寇－北条時宗    エ 倭寇－北条時宗

(6) eについて、この文化・芸術運動の名前をカタカナで答えなさい。

(7) fについて、右の地図の航路を発見した人物を、次から1人選びなさい。

- ア コロンブス
- イ マルコ・ポーロ
- ウ バスコ・ダ・ガマ
- エ マゼラン



(8) gについて、次の市民革命を行った国をそれぞれ答えなさい。

- ① 本国からの新しい税などに反発し、1776年に独立宣言を発表し、独立戦争に勝利して憲法を制定した。

世紀	主なできごと	
前6世紀	シャカが生まれる……………	a
	A	
7世紀	イスラム教がおこる……………	b
	B	
10世紀	唐が滅亡する……………	c
	C	
13世紀	モンゴル帝国が成立する……………	d
	D	
14世紀	ヨーロッパで文化・芸術運動が始まる…	e
	E	
15世紀	大航海時代が始まる……………	f
	F	
17世紀	} 市民革命がおこる……………	g
18世紀		
	G	
19世紀	ナポレオンが皇帝になる……………	h
	H	
20世紀	第一次世界大戦がおこる……………	i
	I	
21世紀	同時多発テロがおこる……………	j

**1** (2点×18=36点)

(1)	①	②
	③	④
(2)	①	
	②	
(3)	①	
	②	
(4)	→ →(唐)→ →	
(5)	①	
	②	
(6)		
(7)		

- ② 17世紀におこった2度にわたる革命によって立憲君主制が実現し、議会政治が進められた。
- (9) hについて、この人物が皇帝になった国はどこか。
- (10) iについて、この戦争中におこった革命により建国された世界最初の社会主義国家は、その後どうなったか。次から1つ選びなさい。  
 ア 現在も存続している。    イ 第二次世界大戦後に消滅した。  
 ウ 20世紀末に解体した。
- (11) jについて、アメリカがテロとの戦いを表明して始めた戦争を、次から1つ選びなさい。  
 ア 湾岸戦争    イ イラク戦争    ウ 朝鮮戦争    エ ベトナム戦争


(8)	①
	②
(9)	
(10)	
(11)	

(4)完答

**2** 〈女性の歴史〉 次の人物カードを見て、あとの問いに答えなさい。


**A** 平塚らいてう

私は女性の権利を向上させるための運動を行い、「青鞜」という雑誌を出しました。a 女性の参政権も主張しました。




**B** 出雲の阿国

私は島根県出身ですが、京都や江戸で華やかな踊りを演じました。b この踊りは、江戸時代にさらに発展しました。



**C** 津田梅子

私は明治の初めに、c 欧米に派遣された使節団に同行し、帰国後女性教育の発展に努めました。



**D** アンネ・フランク

私は第二次世界大戦中、d ナチスからの迫害から逃れていましたが、ついに発見され、強制収容所に送られました。




- (1) 下線部 a について、日本で女性が参政権を獲得したのは何年のことか。次から1つ選びなさい。  
 ア 1889年    イ 1919年    ウ 1925年    エ 1945年
- (2) 下線部 b について、阿国の踊りは庶民の娯楽として発展し、江戸時代には男性のみで演じる芝居として定着した。この芝居を何というか。
- (3) 下線部 c について、津田梅子が同行した使節の副使で、帰国後政府の中心となった薩摩藩出身の政治家はだれか、次から1人選びなさい。  
 ア 板垣退助    イ 大久保利通    ウ 勝海舟    エ 岩倉具視
- (4) 下線部 d について、ナチスが迫害した民族は何か。次から1つ選びなさい。  
 ア アラブ人    イ アジア人    ウ ユダヤ人    エ アーリア人
- (5) 日本の歴史上、女性で政治の実権をにぎった人物について、次の問いに答えなさい。

**2** (2点×7=14点)

(1)	
(2)	
(3)	
(4)	
(5)	①
	②
	③

- ① 中国の歴史書に記録が残る、弥生時代の女王の名前を答えなさい。    **E**
- ② 天武天皇のきさきから次の天皇に即位し、藤原京を造営した天皇はだれか。
- ③ Eのカードは、だれのことを述べていると考えられるか。人物名を答えなさい。


私は2人の息子を亡くしましたが、夫の立てた幕府を守るため、家来に団結して戦うよう、訴えました。



紙面サンプルはここまでです。  
弊社教材サンプルをご覧いただき  
ありがとうございます。


塾・学校の先生限定サイト

Bunri Teachers' Site へのご登録で、  
全ページ版をご覧いただけます。



登録無料で、他にも便利な機能がたくさん！  
ぜひお役立て下さい。

Bunri Teachers' Site  
会員登録はこちら



※ご登録には弊社発行の招待コードが必要です。

### 教材サポート

単元テスト、指導用資料、  
学習サポートアイテムなど  
指導をサポートするコンテンツ



### 最新の教育情報

社会時事問題、高校入試分析、  
教科書採択情報など最新の  
教育に関する情報をお届け



### 各種教材やテストの お問い合わせ・お申込み

生徒さま一人一人に合った教材・  
テスト・デジタルコンテンツを  
ご提案



※Bunri Teachers' Siteは、塾・学校の先生方のための情報サイトです。  
ユーザー登録していただくことで、会員限定の詳細情報をご覧いただくことができます。  
本サイトは一般の方のご利用をお断りしております。予めご了承ください。

お問い合わせフォーム

招待コード発行や教材の内容・ご購入方法等  
お気軽にお問い合わせ下さい。

資料ご請求フォーム

弊社教材カタログ、教材やセミナーの  
最新情報をお手元にお届けします！