

冬期テキスト

必修編

社会

中学 **1** 年



第

2

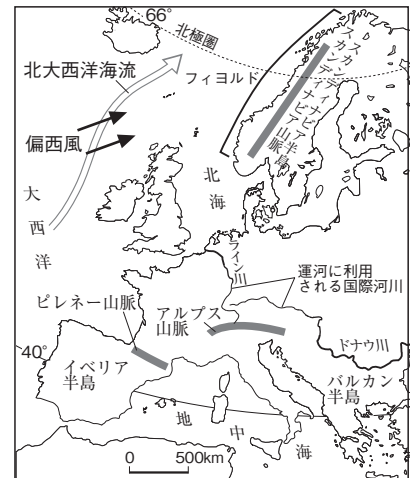
講座

ヨーロッパ

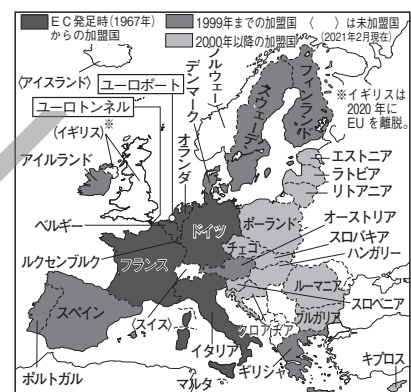
1 ヨーロッパの自然と社会

- (1) 気候…大部分が温帯。北部やロシア連邦は亜寒帯（冷帯）。
- ① 西岸海洋性気候…ヨーロッパ西部。暖流の北大西洋海流と偏西風の影響で、緯度のわりに温暖。
 - ② 地中海性気候…地中海沿岸。夏の降水量が少ない。
- (2) 民族と宗教…民族は使用する言語で分類。キリスト教が広く信仰。
- ① 北西部…ゲルマン系言語、宗派→プロテスタント。
 - ② 南部…ラテン系言語、宗派→カトリック。
 - ③ 東部（ロシアを含む）…スラブ系言語、宗派→正教会。
- (3) ヨーロッパ連合（EU）…ヨーロッパ共同体（EC）から1993年に発展。2025年現在27か国が加盟。共通通貨ユーロの導入や仕事の資格・製品の規格の統一、交通網の整備→人やものの移動が自由になる。
- (4) EUの課題…加盟国間の経済格差→平均賃金に大きな差。加盟国の増加で、意見の調整に時間がかかるなど。

▼ヨーロッパの自然環境と地形



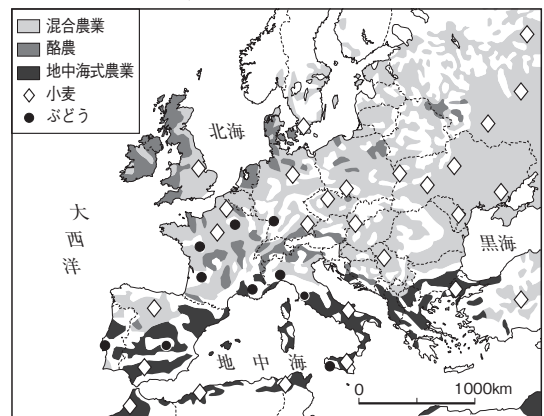
▼EU加盟国と非加盟国



2 ヨーロッパの産業と貿易

- (1) 農業…EU諸国最大の農業国はフランス。
- ① 地中海式農業…夏の乾燥にたえられるぶどうやオレンジ、オリーブなどを植え、雨が降る冬に小麦を栽培する。
 - ② 混合農業…小麦などの穀物の栽培と豚や牛などの家畜の飼育を組み合わせた農業。
 - ③ 酪農…冷涼な北部やアルプス山脈周辺。乳牛を飼育し、牛乳からチーズ・バターを生産する。
- (2) 工業…ドイツのルール工業地域の鉄鋼業がおとろえる。北海に油田があり、ユーロポートの周辺に石油化学工業。現在は、航空機や医薬品の先端技術（ハイテク）産業、自動車工業が成長。EU諸国で共同開発や技術協力を行い、国際的な分業で航空機を生産。情報通信技術（ICT）産業も発達し、工業が盛んな地域はヨーロッパ各地に拡大。

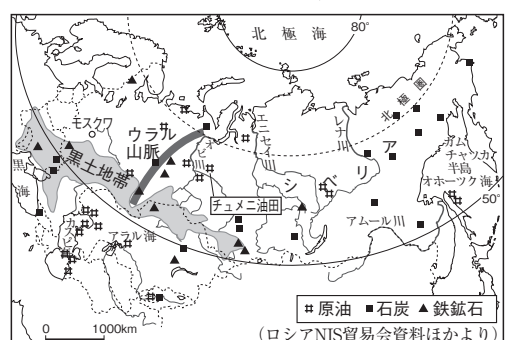
▼ヨーロッパの農業地域



3 ロシアと周辺諸国

- (1) 地形と自然…面積は約1710万km²（世界第1位）で日本の約45倍。ウラル山脈はヨーロッパ州とアジア州の境界。東西に広く、東部のシベリアに針葉樹林のタイガ。
- (2) 歴史…かつては社会主義国のソビエト社会主義共和国連邦。1991年にソ連が解体し、ロシアなど15の国に。ロシアは自由主義経済を導入、豊富な鉱産資源をもとに経済が発展。
- (3) 産業・貿易…西部で穀物栽培が盛んで、黒土地帯は小麦の大産地。原油・天然ガスをパイプラインでEU諸国に輸出。

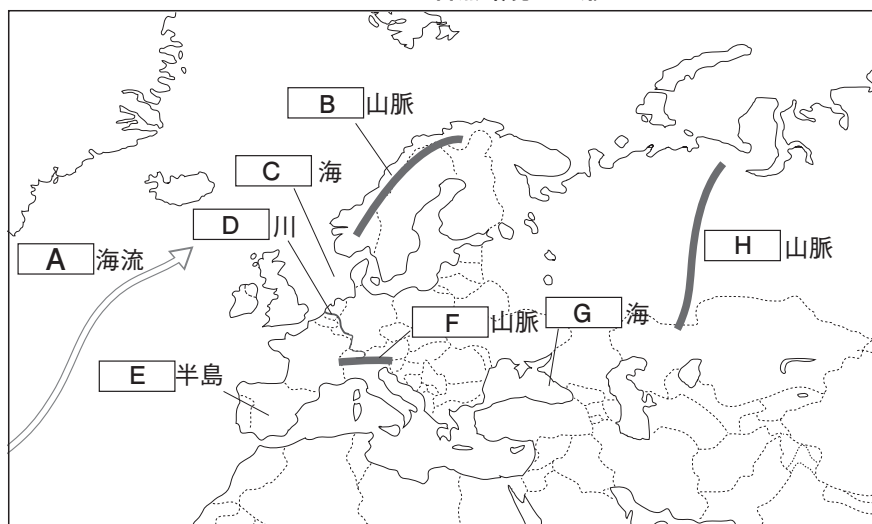
▼ロシアと周辺諸国の自然と農業・鉱工業



確認問題

1 にあてはまる語句を答えなさい。

ヨーロッパの自然環境と地形



A _____

B _____

C _____

D _____

E _____

F _____

G _____

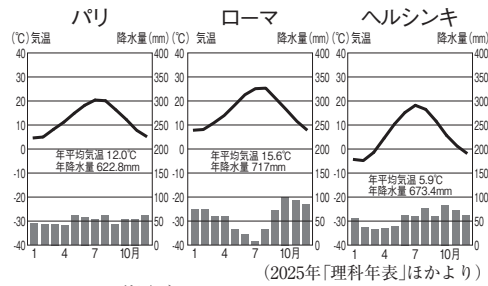
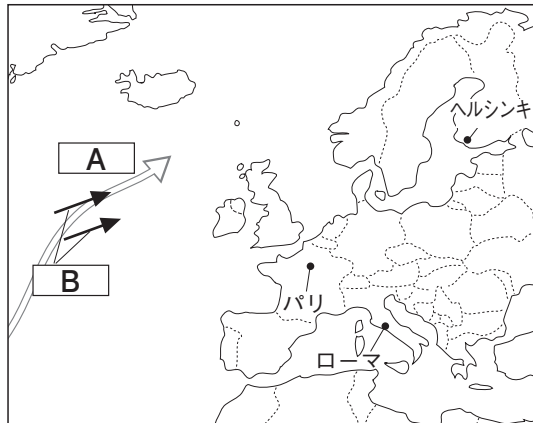
H _____

2 次の問いに答えなさい。

- (1) 複数の国を流れ、各国の船が水運に利用できる河川を何というか。 (1) _____
- (2) スカンディナ비아半島の北西部に見られる、氷河によってけずられた細長い湾が連なる地形を何というか。 (2) _____
- (3) ヨーロッパ北部や西部で話される英語やドイツ語は、何系の言語か。 (3) _____
- (4) ヨーロッパの国々が経済や政治でまとまるために結成した組織から発展し、1993年に作られた組織を何というか。 (4) _____
- (5) (4)の加盟国の多くで使われている共通通貨を何というか。 (5) _____
- (6) アルプス山脈より南の地域で主に行われる、夏は乾燥にたえられるぶどうやオリーブを栽培し、降水のある冬は小麦を作る農業を何というか。 (6) _____
- (7) 主にアルプス山脈より北の地域で行われる、麦類などの栽培と家畜の飼育とを組み合わせた農業を何というか。 (7) _____
- (8) 炭田の開発とともに発展し、ヨーロッパで最大級の工業地域となったドイツの工業地域を何というか。 (8) _____
- (9) ヨーロッパの国々が、国境を越えた技術協力を行い、分業で生産している工業製品は何か。 (9) _____
- (10) ロシアで産出される原油や天然ガスなどを、ヨーロッパの各国へ直接輸送するための施設の何を何というか。 (10) _____

図表問題

1 次の地図と雨温図を参考に、文中の□にあてはまる語句を答えなさい。

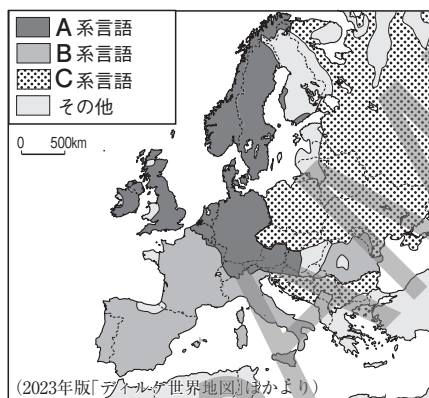


パリは暖流の□Aと上空を吹く□Bの影響で、緯度のわりに温暖な□C気候である。雨温図からローマは□D気候、ヘルシンキは□E帯に属していることがわかる。

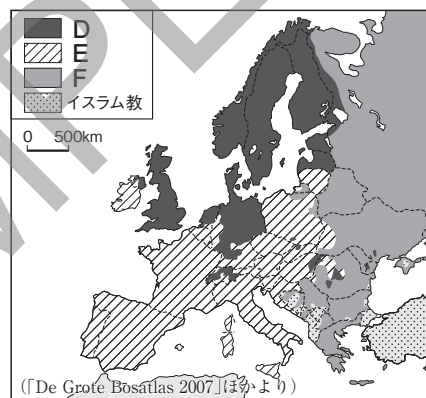
A〔 〕 B〔 〕 C〔 〕
D〔 〕 E〔 〕

2 次の地図1、2を参考にまとめた、表中のA～Fにあてはまる語句を、あとからそれぞれ選びなさい。

地図1 ヨーロッパの言語



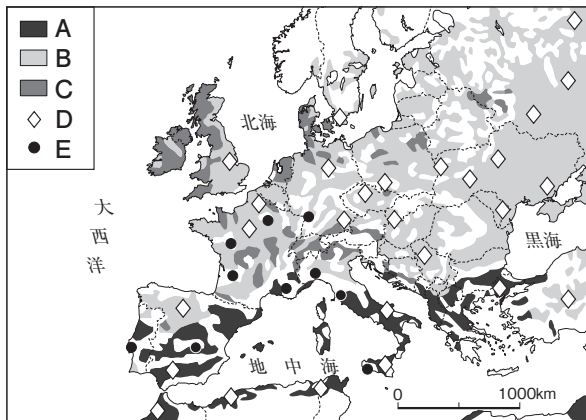
地図2 ヨーロッパの宗教



ア ゲルマン イ スラブ ウ ラテン
エ プロテスタント オ カトリック カ 正教会

	言語	宗派
北西部	A〔 〕	D〔 〕
南部	B〔 〕	E〔 〕
東部	C〔 〕	F〔 〕

3 ヨーロッパの農業地域を示した次の地図中のA～Cにあてはまる農業を答えなさい。また、D、Eにあてはまる農産物を、右からそれぞれ選びなさい。



ア 米 イ 小麦 ウ 茶
エ ぶどう オ 綿花

A〔 〕
B〔 〕
C〔 〕
D〔 〕
E〔 〕

演習問題

1 ヨーロッパについて、次の問いに答えなさい。

- (1) 日本の北端と同じ緯度の緯線を、地図1中のア～エから1つ選びなさい。 []

- (2) 地図1中のXの海域で主に産出される鉱産資源は何か。 []

- (3) 地図1中のYには、氷河で削られた深い湾^{わん}が見られる。このような海岸地形を何というか。 []

- (4) 地図1中のZの国の主な言語・キリスト教の宗派の組み合わせを、次から1つ選びなさい。 []

ア スラブ系言語－正教会

イ ゲルマン系言語－プロテスタント

ウ ラテン系言語－カトリック

- (5) EUの加盟国としてあてはまらないものを、次から2つ選びなさい。 [] []

ア ギリシャ イ ポーランド ウ アイルランド

エ スイス オ ノルウェー カ スペイン

- (6) EUで行われている政策として誤っているものを、次から1つ選びなさい。 []

ア 加盟国間の国境の通過が自由になった。

イ 教師や医師、弁護士などの免許を統一した。

ウ ものの移動を制限するため、関税を高くした。

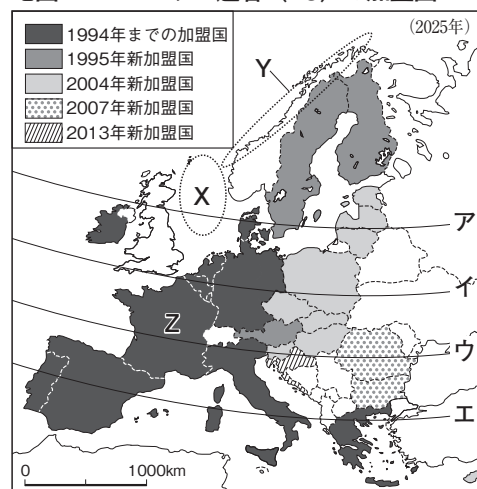
エ 製品の規格を統一し、他国でも使えるようにした。

- (7) EUで導入されている共通通貨を何というか。 []

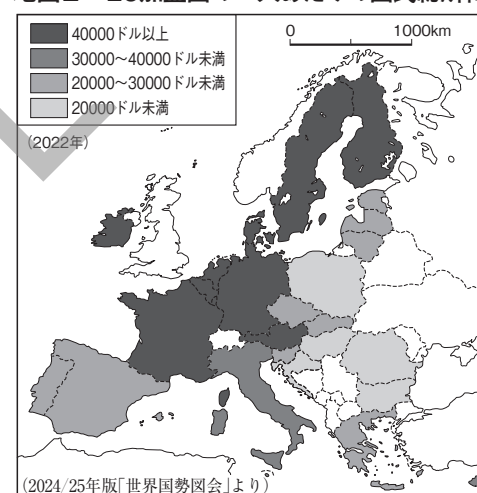
- (8) おそくにEUに加盟した国々は、早くからの加盟国と比べてどのような特徴が見られるか。地図1、2から読み取れることを、簡単に説明しなさい。

[]

地図1 ヨーロッパ連合 (EU) の加盟国



地図2 EU加盟国の一人あたりの国民総所得



2 ロシアと周辺諸国について、右の地図を見て、次の問いに答えなさい。

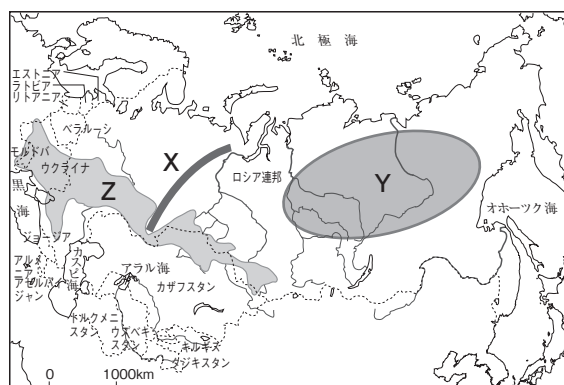
- (1) ロシアは、周辺の14の国々とかつては1つの国を形成していた。その国名を答えなさい。 []

- (2) ロシアをヨーロッパとアジアに分けるXの山脈を何というか。 []

- (3) Yの地域に広がる針葉樹林は何とよばれているか。 []

- (4) Zの地域で生産が盛んな農産物を、次から1つ選びなさい。 []

ア 小麦 イ 茶 ウ 綿花 エ 米



弊社サンプルをご覧ください、
ありがとうございました。



紙面サンプルは ここまでです！

Bunri Teachers' Site へのご登録で、
全ページ見本^{*}と目次をご覧ください。

※一部教材を除く

会員登録はこちら



Bunri Teachers' Site とは？

株式会社文理が運営する、塾・学校の先生方のための情報サイトです。

文理の教材紹介



デジタルサービスや
テストのお申込み



教育情報の発信



オンラインセミナー
のお知らせ

